




ATIVIDADES DAS TURMAS: 1º ANOS
MÊS: MAIO/2021
ESCOLA REITOR ALVARO AUGUSTO CUNHA ROCHA
1º ANOS A E B
PROFESSORAS: JOSEMARA, ROSIMEIRE E JANAÍNA

ALUNO: _____

PROFESSORA: _____ 1º ANO _____

ATIVIDADE DO DIA 03/05/2021

CALENDÁRIO MAIO - 2021



DOMINGO	SEGUNDA - FEIRA	TERÇA- FEIRA	QUARTA- FEIRA	QUINTA- FEIRA	SEXTA- FEIRA	SABADO
						1
2	3	4	5	6	7	8
9	10	11	12	13	14	15
16	17	18	19	20	21	22
23	24	25	26	27	28	29
30	31					

1º DE MAIO DIA DO TRABALHO!

ADIVINHAS

CUIDO DA NATUREZA
COM TODO O CARINHO
CUIDO DE PLANTAS
E FLORES.
EU SOU O _____



SOU DA ÚLTIMA GERAÇÃO
DIGITO O DIA INTEIRO
TRABALHO NO COMPUTADOR.
EU SOU O _____



FAÇO MUITAS COMIDAS
DOCES E SALGADOS
UTILIZO AS PANELAS
PARA FAZER AS REFEIÇÕES.
EU SOU A _____

SOU UM SOLDADO
MEU TRABALHO É IMPORTANTE
SALVO VIDAS E APAGO O FOGO
EU SOU O _____



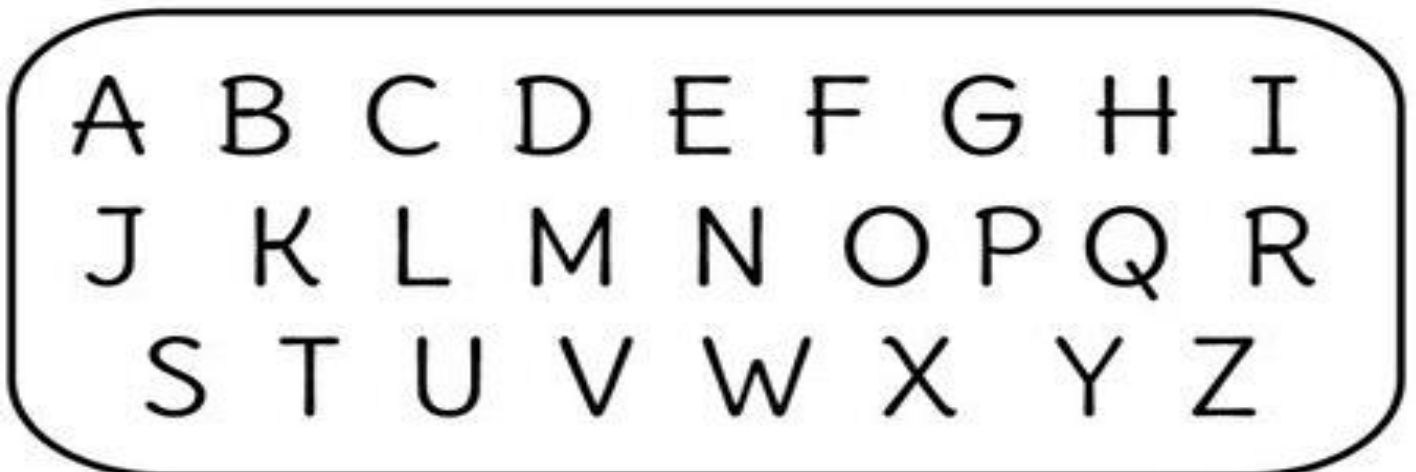
ALUNO: _____

PROFESSORA: _____ 1º ANO _____

ATIVIDADE DO DIA 05/05/2021

1. ESCREVA SEU NOME COM MUITO CAPRICHU:

2. CIRCULE NO ALFABETO AS LETRAS DO SEU NOME:



3. SEU NOME TEM:

QUANTAS LETRAS?

QUANTAS VOGAIS?


QUANTAS CONSOANTES?



NOME: _____

4. OBSERVE O ALFABETO E COMPLETE COM AS LETRAS QUE ESTÃO FALTANDO:

A		C			F
	H			K	
M					R
S				W	
Y					



5. LIGUE O DESENHO COM A VOGAL INICIAL:



A



E



I



O



U





















NOME: _____

6. VAMOS RELEMBRAR OS NÚMEROS:

1	2	3	4	5	6	7	8	9	10
11	12	13	14	15	16	17	18	19	20

7. AGORA QUE ESTÁ CRAQUE E CONHECE TODOS OS NÚMEROS, DESCUBRA OS QUE ESTARIAM NOS LUGARES DOS SÍMBOLOS E ESCREVA AO LADO:

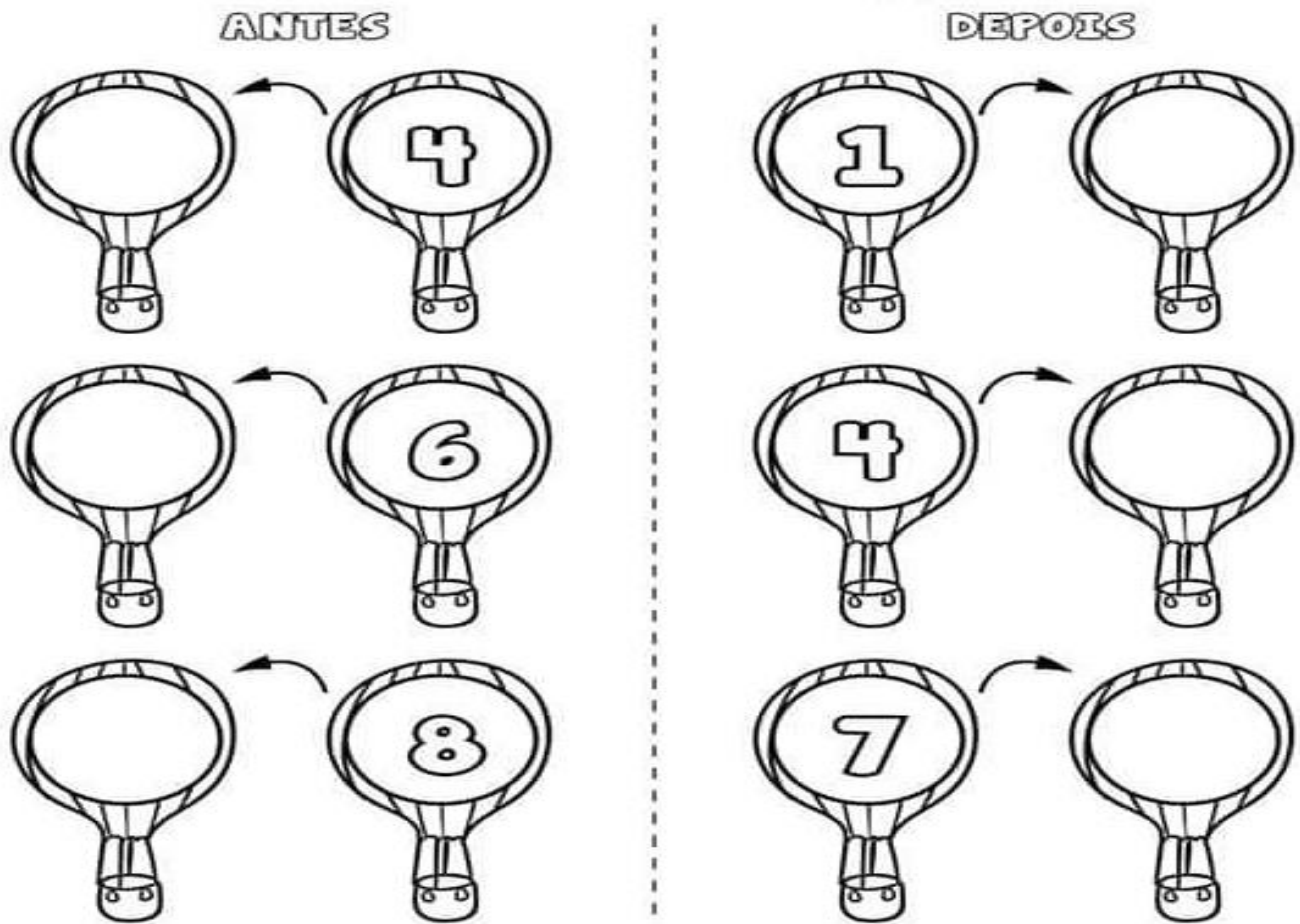
1	2	3		5		_____		_____
	7		9			_____		_____
11		13		15		_____		_____
	17		19			_____		_____
						_____		

8. AGORA COMPLETE COM OS NÚMEROS QUE ESTÃO FALTANDO:

1	2	3		5	6	7			10
11		13	14		16	17		19	20

NOME: _____

9. DE ACORDO COM A ORDEM NUMÉRICA QUE NÚMERO VEM:



10- COMPLETE COM A QUANTIDADE QUE REPRESENTA:

1- 

2-

3-

4-


5-

NOME: _____

11. LIGUE OS CONJUNTOS AOS NÚMEROS CORRESPONDENTES:



9



2



6




1



8



5



10

12- VAMOS SOMAR:


LUCAS TINHA UMA BOLA E GANHOU MAIS UMA.
QUANTAS ELE TEM AGORA?



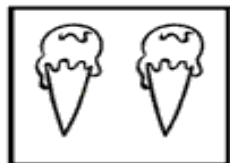
+



=



MARINA TINHA DOIS SORVETES E GANHOU MAIS UM.
QUANTOS ELA TEM AGORA?



+



=



DIA DAS MÃES!

DOMINGO (08/05) É O DIA DAS MÃES, VAMOS PINTAR O CARTÃO ABAIXO E ENFEITAR COM MUITO CAPRICO. DEPOIS É SÓ RECORTAR E ENTREGAR PARA A MAMÃE COM UM ABRAÇO BEM APERTADO.





ATIVIDADES REMOTAS DAS TURMAS: 1º ANOS
MÊS: MAIO/2021

ESCOLA REITOR ALVARO AUGUSTO CUNHA ROCHA
1º ANOS A E B

PROFESSORAS: JOSEMARA, ROSIMEIRE E JANAÍNA


ALUNO: _____

PROFESSORA: _____ 1º ANO _____

ATIVIDADE DO DIA 12/05/2021

OLÁ CRIANÇAS, ONTEM FOI O DIA DAS MÃES.

A PALAVRA MAMÃE COMEÇA COM A LETRA M, VAMOS VER OUTRA PALAVRA QUE
TAMBÉM COMEÇA COM A LETRA M.



M A C A C O

M M M M M M M
M M M M M M M

ATIVIDADE DO DIA 13/05/2021

NOME: _____

PROJETO MORADIA

VAMOS CONTINUAR FALANDO SOBRE MORADIA. HOJE VAMOS OUVIR A MÚSICA QUEM MORA? PEÇA AJUDA PARA UM ADULTO.

QUEM MORA?

QUEM MORA NA CASA TORTA?
SEM JANELINHA E SEM PORTA?

UM GATO
QUE USA SAPATO
E TEM RETRATO
NO QUARTO?


UMA FLORZINHA
PEQUENININHA
DE SAINHA
CURTINHA?

UM ELEFANTE COM RABINHO DE BARBANTE?
UM PAPEL DE ÓCULOS E CHAPÉU?
UM BOTÃO QUE TOCA VIOLÃO?

UM PENTE COM DOR DE DENTE?
QUEM MORA NA CASA? QUEM?
INVENTE DEPRESSA ALGUÉM.



LIVRO BOQUINHA FECHADA, DE MARIA MAZZETTI



O QUE A CASA NÃO TEM?

--	--	--	--	--

--	--	--	--	--	--	--	--	--

ATIVIDADE DO DIA 14/05/2021

NOME: _____

LIGAR DE ACORDO COM OS PERSONAGENS DA MÚSICA:

GATO

ELEFANTE

FLOR

PAPEL

BOTÃO

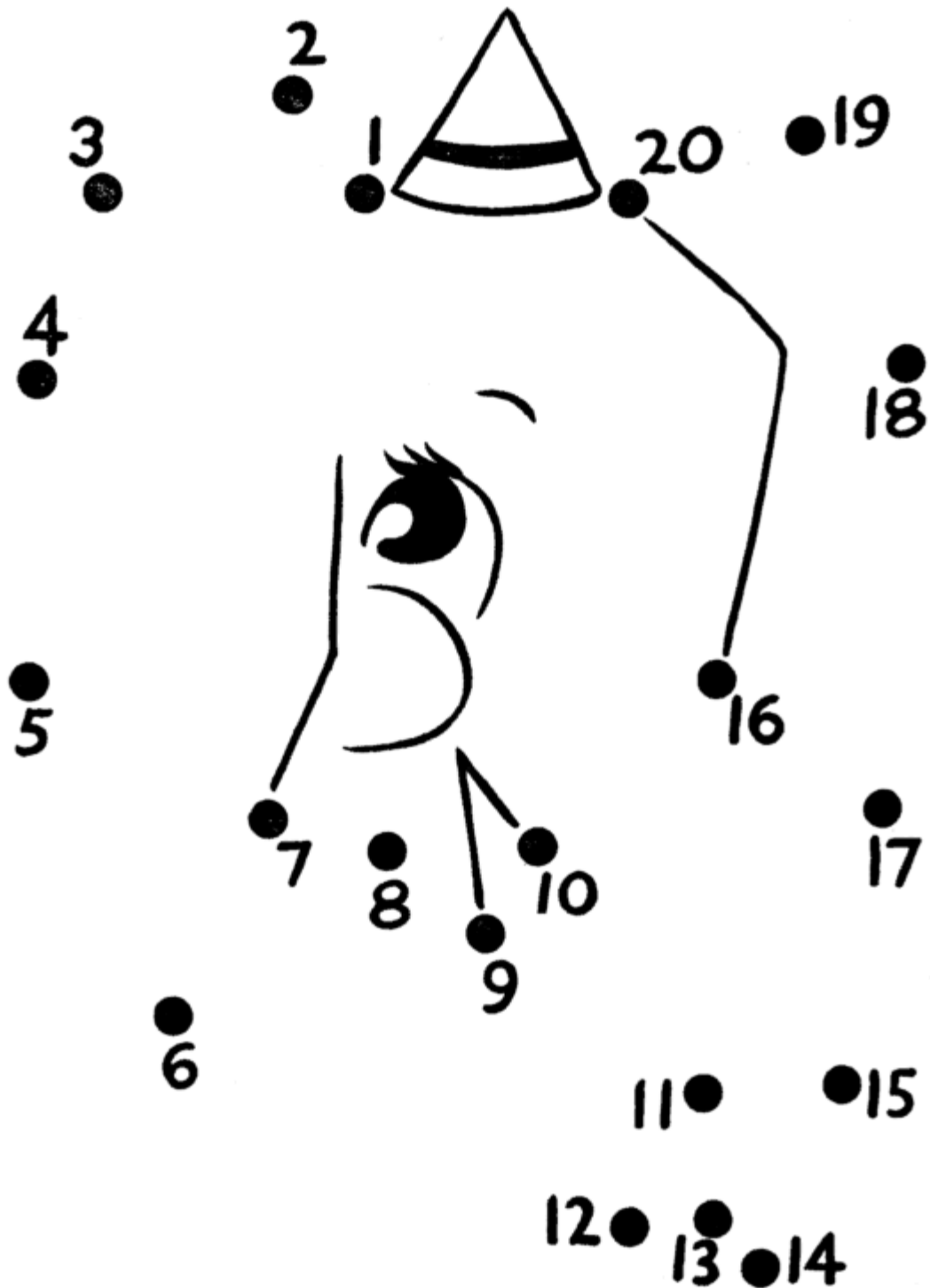
PENTE



NOME: _____

VAMOS DESCOBRIR QUAL É O ANIMAL?

PARA DECOBRIR QUAL ANIMAL ESTÁ ESCONDIDO, LIGUE OS PONTOS COMEÇANDO PELO NÚMERO 1 ATÉ O NÚMERO 20.




ATIVIDADE DO DIA 18/05/2021

NOME: _____


ASSIM COMO AS PESSOAS, OS ANIMAIS PROCURAM LUGARES ONDE POSSAM SE PROTEGER DA CHUVA, DO SOL, DO FRIO E DE OUTROS ANIMAIS. E ONDE TAMBÉM POSSAM DESCANSAR E DORMIR.

OBSERVE E PINTE.


HÁ ANIMAIS QUE CONSTROEM SUAS CASAS.



OUTROS PROCURAM LUGARES PARA SE PROTEGER.




EXISTEM ALGUNS ANIMAIS CUJAS CASAS SÃO CONSTRUÍDAS PELO HOMEM.



ATIVIDADE DO DIA 19/05/2021

NOME: _____

CUBRA O TRAÇADO LEVANDO CADA ANIMAL PARA SUA CASINHA:



ATIVIDADE DO DIA 20/05/2021

NOME: _____

CONTINUANDO COM AS ATIVIDADES SOBRE A CASA. CHAME UM ADULTO PARA AJUDAR A RESPONDER E PINTE COM CAPRICHOS.

O LOCAL ONDE MORAMOS SE CHAMA:

--	--	--	--

MINHA MORADIA É: (MARCAR COM UM X)

CASA

PRÉDIO

NOSSA CASA NOS PROTEGE DE QUÊ?

QUAIS SÃO OS TIPOS DE MORADIA QUE VOCÊ CONHECE?

AS CASAS SÃO DIVIDIDAS EM: _____

MINHA CASA TEM _____ CÔMODOS.

MINHA CASA TEM: (MARCAR COM UM X)

JARDIM

HORTA

QUINTAL

ÁRVORE




ATIVIDADE DO DIA 21/05/2021


NOME: _____

REPRESENTE COM MUITO CAPRICHOS!

MINHA CASA É ASSIM:




ESTAS SÃO AS PESSOAS QUE MORAM COMIGO NA MINHA CASA (DESENHAR):




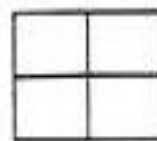
ATIVIDADE DO DIA 24/05/2021

NOME: _____

OBSERVE A CASINHA DOS PORQUINHOS E PINTE COM MUITO CAPRICHOS

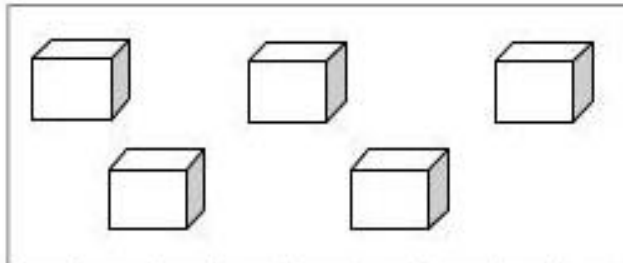


ESCREVA NOS QUADRINHOS O NÚMERO CORRESPONDENTE A CADA FIGURA:

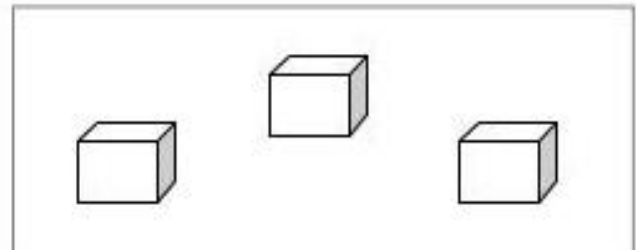


NOME: _____

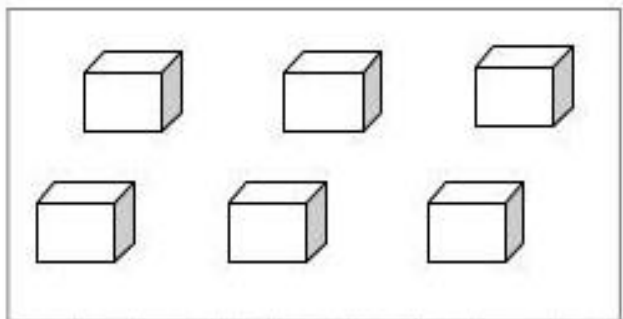
PINTE O NUMERAL CORRESPONDENTE À QUANTIDADE DE ELEMENTOS DE CADA CONJUNTO:



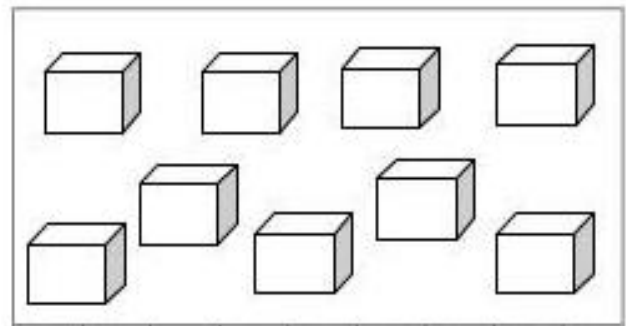
1	2	3	4	5	6	7	8	9
---	---	---	---	---	---	---	---	---



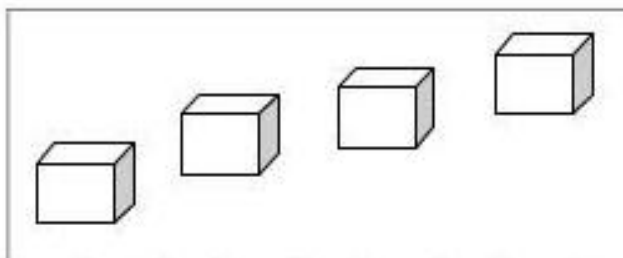
1	2	3	4	5	6	7	8	9
---	---	---	---	---	---	---	---	---



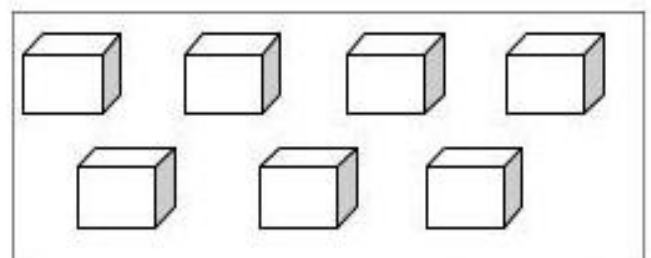
1	2	3	4	5	6	7	8	9
---	---	---	---	---	---	---	---	---



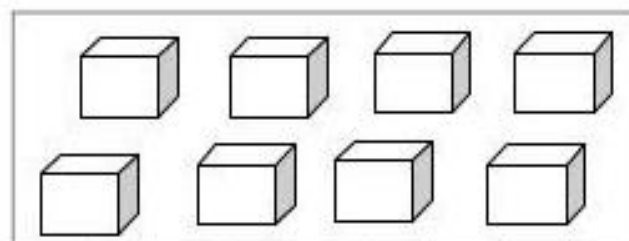
1	2	3	4	5	6	7	8	9
---	---	---	---	---	---	---	---	---



1	2	3	4	5	6	7	8	9
---	---	---	---	---	---	---	---	---



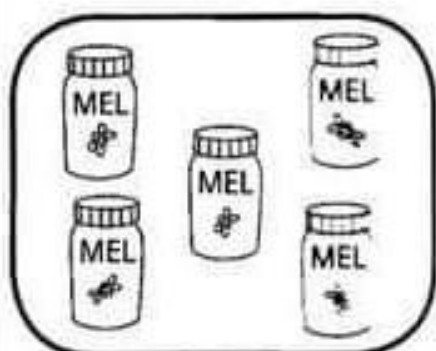
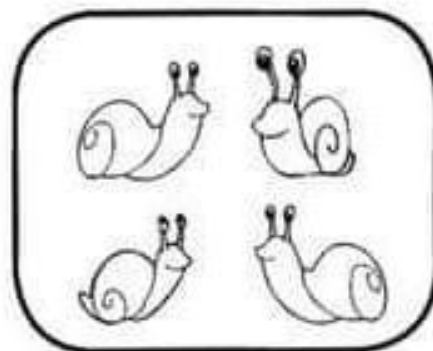
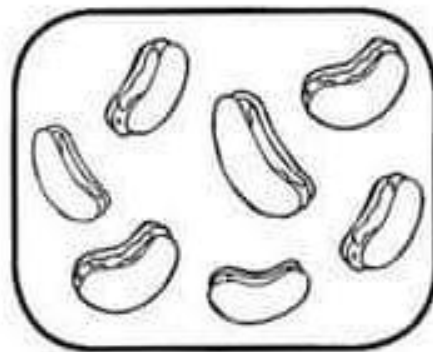

1	2	3	4	5	6	7	8	9
---	---	---	---	---	---	---	---	---



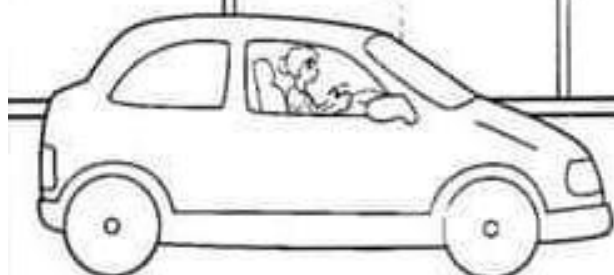


1	2	3	4	5	6	7	8	9
---	---	---	---	---	---	---	---	---

NOME: _____

LIGUE CADA CONJUNTO DE FIGURAS AO NUMERAL CORRESPONDENTE E, DEPOIS, PINTE O CONJUNTO EM QUE HÁ MAIS ELEMENTOS:



 CONTINUE NUMERANDO AS PLACAS.




ATIVIDADE DO DIA 27/05/2021

NOME: _____

ÓBA! HOJE TEM HISTÓRIA! OS TRÊS PORQUINHOS!

DEPOIS DE OUVIR A HISTÓRIA DE HOJE REALIZE AS ATIVIDADES:

OS DOIS PORQUINHOS TERMINARAM RAPIDAMENTE DE CONSTRUIR SUAS CASINHAS E FORAM BRINCAR. ENQUANTO ISSO SEU IRMÃO CONSTRUÍA SUA CASINHA BEM MAIS FORTE DE



TIJOLO.

SE VOCÊ FOSSE UM DOS PORQUINHOS, QUAL CASINHA VOCÊ CONSTRUIRIA?

PINTE SUA RESPOSTA DE AZUL:

PALHA

MADEIRA

TIJOLO

DESENHE SUA CASINHA DE ACORDO COM SUA RESPOSTA:

A large, empty rectangular box with a thin black border, intended for the student to draw their chosen piggy house.

NOME: _____

VAMOS COMPLETAR A HISTÓRIA?



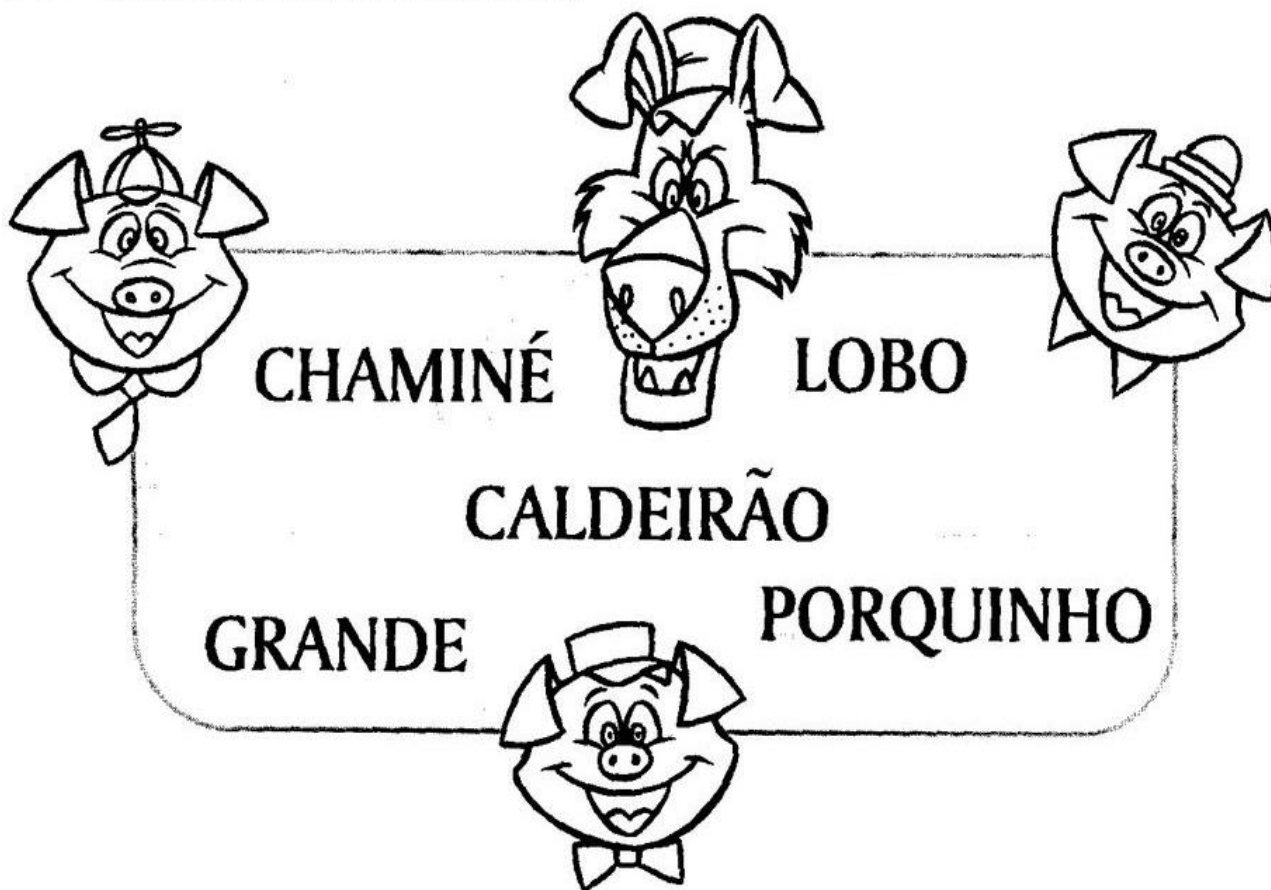
LEIA O TRECHO DO CONTO "OS TRÊS PORQUINHOS" E COMPLETE COM AS PALAVRAS DO BANCO.

O _____, PERCEBENDO A ESPERTEZA DO _____,

RESOLVEU ESQUENTAR UM _____ DE ÁGUA. QUANDO O LOBO

DESCEU PELA _____, CAIU DENTRO DE UM _____


CALDEIRÃO DE ÁGUA FERVENDO.




ATIVIDADE DO DIA 31/05/2021

NOME: _____

ESCREVA NO ESPACO A QUANTIDADE DE CADA ELEMENTO, DEPOIS PINTE COM MUITO CAPRICHOS!



PINTE DE VERMELHO QUANTOS PORQUINHOS APARECEM NA HISTÓRIA:

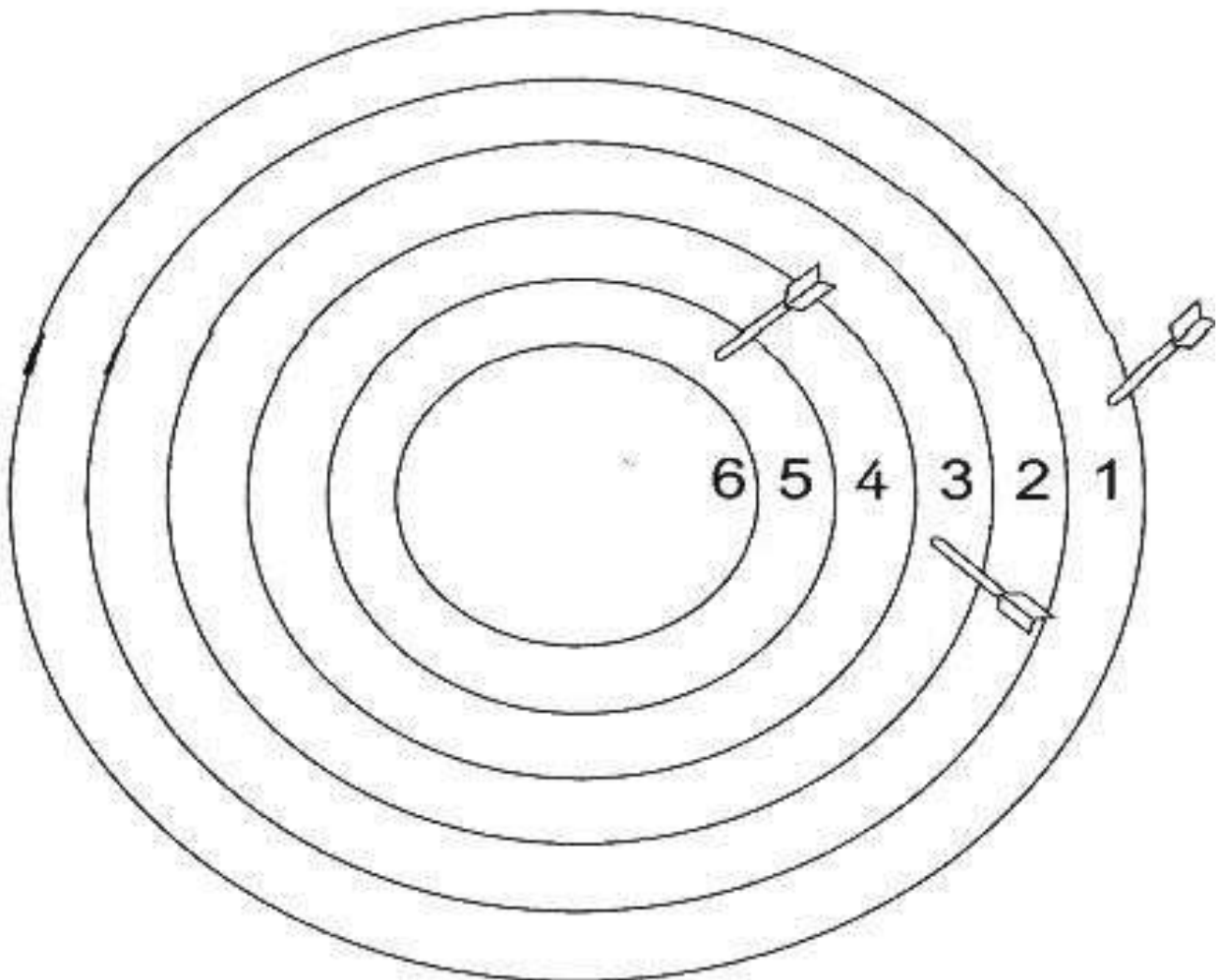


EDUCAÇÃO FÍSICA

PROFESSORA: FABIANA DA SILVA SCHMITZ

ALUNO (A): _____ 1º ANO _____

Vinícius foi a um parque e brincou de tiro ao alvo. Veja quantos pontos ele fez.



PINTE OS QUADRADOS ABAIXO DE ACORDO COM OS NÚMEROS QUE VINÍCIUS ACERTOU.

1 2 3 4 5 6

NO TOTAL ELE MARCOU PONTOS.


EDUCAÇÃO FÍSICA

PROFESSORA: FABIANA DA SILVA SCHMITZ

ALUNO (A): _____ 1º ANO _____

Cubra os pontilhados e siga o que se pede.

- 1) Pinte o palhaço que está mais alto.
- 2) Circule o palhaço que está mais baixo





ATIVIDADES REMOTAS DAS TURMAS DO 1º ANO

MÊS: 10 / MAIO / 2021

EDUCAÇÃO FÍSICA

PROFESSORA: FABIANA DA SILVA SCHMITZ

ALUNO (A): _____ 1º ANO _____

Um desafio divertido para você realizar com seus pais. Grave um vídeo.

Palavra Cantada – Em cima Embaixo

<https://www.youtube.com/watch?v=BYnoiv9RXgU>