

Português

Data: 03 de agosto de 2021

Leia com muita atenção:

2º DOMINGO DE AGOSTO

O PAI DA GENTE

É um pai alegre, bem humorado, amigo do peito.

Mas que também fica nervoso!...

E que quer ter o direito

De as vezes ser preguiçoso,

De brincar, de voltar a ser criança.

Que também se cansa de ser sempre durão!

E que às vezes tem medo

Porque é gente. Super-herói

Só existe na TV!

O pai é de carne e osso,

Igualzinho a você!

E precisa de carinho. De atenção!

E às vezes de um suquinho

Feito por sua mão!

Hoje em dia o pai precisa

De uma energia dobrada...

Pois além do seu trabalho

Ele sempre tem que ajudar...

E até fralda molhada

Ele já sabe trocar!

Você está percebendo

Que os tempos estão mudando!

A mulher trabalhando fora...

O homem em casa ajudando...

A criança participando!

Coisa boa de se ver!

(Maria da Conceição Torres G. Tavares)



FONTE DISPONÍVEL EM: <https://www.espacoeducar.net/2012/07/120-atividades-para-o-dias-dos-pais.html> - Acesso em 06/07/2021

Português

Data: 03 de agosto de 2021.

1) Agora responda as perguntas baseado no texto “O pai da gente.”

a) Qual é o título do texto e qual é a autora?

R: _____

b) Quais são as qualidades do pai que o texto descreve?

R: _____

c) Por que, segundo o texto, o pai “também fica nervoso”?

R: _____

d) O texto fala que pai não é super-herói, por quê:

() ele é fraco

() ele é gente

() ele tem uma capa

() ele gosta de jogar bola

e) Quais são as outras tarefas que hoje em dia um pai faz?

R: _____

f) Escreva 4 qualidades de seu pai:

R: _____

g) Elabore uma frase para homenagear seu pai:




FONTE DISPONÍVEL EM: <https://br.pinterest.com/pin/645281452830599208/> - Acesso em 06/07/2021.

Arte

Data: 03 de agosto de 2021.

- Complete este rosto fazendo o desenho de seu pai. Capriche bem e seja criativo nesta arte.

APRESENTO O PAI MAIS LEGAL DE TODOS



FONTE DISPONÍVEL EM: <https://www.elo7.com.br/revista-para-colorir-e-atividades-dia-dos-pais/dp/13056C6> - Acesso em 06/07/2021

História

Data: 03 de agosto de 2021.

DATAS COMEMORATIVAS

Agosto

- Dia 1º
 - Dia do Selo Postal Brasileiro
- Dia 5
 - Dia Nacional da Saúde
- Dia 11
 - Dia da Consciência Nacional
 - Dia do Estudante
 - Dia da Pintura
- Dia 20
 - Dia da Infância
- Dia 22
 - Dia Nacional do Folclore
- Dia 23
 - Dia da Criança Excepcional
- Dia 25
 - Dia do Exército Brasileiro
 - Dia do Soldado
- Dia 31
 - Dia do Nutricionista
- 2º Domingo do Mês
 - Dia dos Pais



FONTE DISPONÍVEL EM: <https://br.pinterest.com/pin/775533998325062854/> - Acesso em 06/07/2021.

- Escolha uma das datas acima e elabore uma frase bem criativa:

Geografia

Data: 05 de agosto de 2021.

VEGETAÇÃO DO PARANÁ

Vegetação é o conjunto de plantas que crescem naturalmente numa região e não deve ser confundida com a **plantação**, que é resultado do trabalho do homem.

O surgimento de florestas e campos em uma região dependem principalmente do clima da região e, em menor dependência, também do tipo de relevo e solo.

O nosso estado apresenta uma variedade de climas, relevos e também de solos. Essa variedade explica os diversos tipos de vegetação encontrados no Paraná. Os principais são:

- vegetação de mangues, de restingas e baixadas — encontradas na Planície Litorânea;
- floresta ou mata atlântica — (cedro, canela, bambuzal) encontrada principalmente na serra do Mar;
- floresta ou mata tropical — (imbuia, figueira-branca, palmito, peroba, pau-d'alho, cedro) encontrada na região Norte e Noroeste;
- floresta ou mata de araucárias — (pinheiro-do-paraná, erva-mate, pau-marfim) também chamada mata dos pinhais, encontrada principalmente no 1º Planalto e sudoeste do Paraná;
- vegetação de campos — (capim-mimoso, flecha, pluma-branca e capões) aparece em vários lugares, principalmente no 2º Planalto ou Campos Gerais.

Com a ação do homem, a vegetação foi muito destruída, restando, atualmente, poucos locais que possuem vegetação nativa. Conservar o que resta dessa vegetação é dever de todos nós.

PRINCIPAIS ÁRVORES NATIVAS DO PARANÁ



Imbuia, ou *Ocotea porosa*.
Atinge de 20 a 25m de altura. Usada na construção de móveis, casas etc.

Geografia

Dia: 05 de agosto de 2021.



Pinheiro-do-paraná



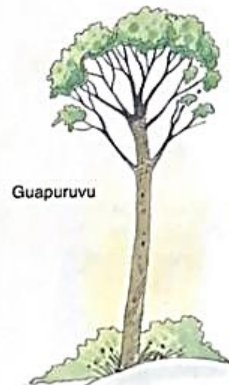
Pinheiro-do-paraná, ou *Araucaria angustifolia*.
Atinge de 20 a 50m de altura. Gosta de clima frio. Seu fruto é a pinha.



Palmitero



Palmitero, ou *Euterpe edulis*.
Atinge de 10 a 20m de altura. Começa a produzir o palmito só a partir dos 7 anos.



Guapuruvu



Ipê-roxo, ou *Tabebuia avellanedas*.
Atinge de 25 a 30m de altura.
Madeira pesada, usada na construção naval. Floresce de setembro a fevereiro com lindas flores.



Guapuruvu, ou *Schizolobium parahyba*.
Atinge de 20 a 30m de altura. Cresce rapidamente e é sensível à geada. É usada para construir canoas de um só tronco, caixas, palitos de fósforos etc.

Geografia

Data: 05 de agosto de 2021.



TUMA, Magda Madalena Peruzin. **Viver e descobrir...Paraná** : história e geografia. 1 ed. São Paulo : LTD, 1992. Texto escaneado 73 à 75.

ASSISTA O VÍDEO: <https://youtu.be/azv6-iaSU7c>

1) Responda:

a) O que é vegetação?

R: _____

b) O que é plantação?

R: _____

c) Quais são os tipos de vegetação encontrados no Paraná?

R: _____


Geografia

Data: 05 de agosto de 2021

d) Cite 4 árvores nativas paranaenses:

R: _____

e) Pinte a Floresta de Araucárias:



FLORESTA DE ARAUCÁRIAS

FONTE DISPONÍVEL EM: <https://bncc.smartkids.com.br/atividades/biomas-brasileiros-3/> -

Português e História

Data: 06 de agosto de 2021.

A ORIGEM DO DIA DOS PAIS

O dia dos pais passou a ter repercussão mundial a partir do início do século XX, quando a data foi institucionalizada nos Estados Unidos da América. Os Estados Unidos comemoraram pela primeira vez o dia dos pais em **19 de junho de 1910**. Tal data foi escolhida a partir da sugestão de uma moça chamada **Sonora Louis Dodd**, que quis homenagear seu pai, **William Jackson Smart**.

No Brasil, o dia dos pais só foi comemorado pela primeira vez em 1953, no dia 16 de agosto. Ao contrário do que ocorreu nos EUA, essa data não foi pensada como forma de homenagem local e simples, que se alastrou depois, sem planejamento. Na verdade, ela foi pensada por um publicitário chamado Sylvio Bhering, à época diretor do jornal O Globo e da rádio homônima.

O objetivo de Bhering era tanto social quanto comercial. A tentativa inicial foi associar a data ao dia de São Joaquim, pai de Maria, mãe de Jesus Cristo, que é comemorado em 16 de agosto, no calendário litúrgico da Igreja Católica, já que a população brasileira era predominantemente constituída de católicos. No entanto, nos anos seguintes, a data também foi deslocada para um domingo, o segundo domingo do mês de agosto – e assim permanece até hoje.

FONTE DISPONÍVEL EM: <https://brasilescola.uol.com.br/datas-comemorativas/dia-dos-pais-1.htm> - ACESSO EM 14/07/2021

IMAGEM DISPONÍVEL EM: <http://www.riscosedesenhos.com.br/2013/07/22/cinco-modelos-de-cartoes-para-o-dia-dos-pais/> - ACESSO EM 14/07/2021

ASSISTA O VÍDEO: <https://youtu.be/7IsJGIKXq4>

- Com base no texto acima responda as questões:

a) Qual é o tema central do texto?

R: _____



Português e História

Data: 06 de agosto de 2021.

b) No Brasil, quando foi comemorado pela primeira vez o Dia dos Pais e por quem foi pensada?

R: _____

c) Qual data queria se associar inicialmente este dia?

R: _____

d) Para você, por que é importante comemorar o Dia dos Pais?

R: _____

CRUZADINHA DO PAPI

- 1-ELE USA TODO O DIA NO PULSO.
- 2-É GRANDE. TEM 4 RODAS E SÓ FUNCIONA COM COMBUSTÍVEL.
- 3-LOCAL ONDE ELE GUARDA O DINHEIRO.
- 4-É FORMADO DE 2 E VIVE ANDANDO NO CHÃO.
- 5-LOCAL ONDE ELE GUARDA AS CHAVES.
- 6-ELE USA NOS DIAS DE MUITO SOL.



1-							
2-							
3-							
4-							
5-							
6-							

FONTE DISPONÍVEL EM: <https://tr.pinterest.com/pin/648870258788099116/> - ACESSO EM: 14/07/2021

- Realize a produção de texto e a atividade artística em comemoração ao Dia dos pais:

Matemática

Data: 09 de agosto de 2021.

SISTEMA MONETÁRIO

Sistema Monetário pode ser definido como sendo o conjunto de moedas em circulação em um determinado país. Atualmente no Brasil temos o Real, também conhecido como real brasileiro e representado pela sigla R\$.

A NOSSA MOEDA É O REAL E O SÍMBOLO É R\$

EM CADA NOTA DO REAL TEM ESTAMPADO UM ANIMAL DA NOSSA FAUNA



CINCO
CENTAVOS



DEZ
CENTAVOS



VINTE E CINCO
CENTAVOS



CINQUENTA
CENTAVOS



UM
REAL

www.atividadesgratuitas.com



DOIS REAIS



CINCO REAIS



DEZ REAIS



VINTE REAIS



CINQUENTA
REAIS



CEM REAIS

FONTE DISPONÍVEL EM: <https://atividadesgratuitas.com/atividades-sistema-monetario-1-ano/> - ACESSO EM 15/07/2021.

ASSISTA O VÍDEO: <https://youtu.be/KtVumf10ipg>

Matemática

Data: 09 de agosto de 2021.

Veja quanto eu tenho e depois escreva-os em palavras:



FONTE DISPONÍVEL EM: <https://atividadespedagogicas.net/2018/06/atividades-de-matematica-sobre-o-sistema-monetario.html> - ACESSO EM 15/07/2021

Matemática

Data: 09 de agosto de 2021.

CALCULANDO

Calcule o preço dos produtos abaixo:



12 pagamentos
de R\$195,00

Operação



12 pagamentos
de R\$48,00

Operação



12 pagamentos
de R\$34,00

Operação



12 pagamentos
de R\$179,00

Operação



12 pagamentos
de R\$73,00

Operação

FONTE DISPONÍVEL EM: <https://atividadespedagogicas.net/2018/06/atividades-de-matematica-sobre-o-sistema-monetario.html> - ACESSO EM 15/07/2021

Matemática

Data: 09 de agosto de 2021.

RESOLVA AS OPERAÇÕES AQUI!


	

IMAGEM DISPONÍVEL EM: <https://www.tudodesenhos.com/d/menina-segurando-nota-de-dinheiro> - ACESSO EM 15/07/2021

Português

Data: 10 de agosto de 2021

Verbos são palavras que indicam **ação, estado, fenômenos da natureza.**

Exemplos:

O menino pula a janela.

A palavra "pula" indica uma **ação** praticada pelo menino.

O menino está com saúde.

A palavra "está" indica um **estado**.

Hoje choveu bastante.

A palavra "choveu" indica um fenômeno da **natureza**.

Os verbos têm três terminações:

1a conjugação ar
estudar, andar, falar

2a conjugação er
comer, escrever, correr

3a conjugação ir
dormir, sorrir, partir



FONTE DISPONÍVEL EM: <https://atividadespedagogicasuzano.com.br/explicacao-para-color-no-caderno-tipos/> - ACESSO EM: 15/07/2021

Os verbos podem estar no:

TOMEI SUCO → **PASSADO**

TOMO SUCO → **PRESENTE**

TOMAREI SUCO → **FUTURO**

FONTE DISPONÍVEL EM: <https://brainly.com.br/tarefa/6160674> - ACESSO EM 15/07/2021

Português

Data: 10 de agosto de 2021.

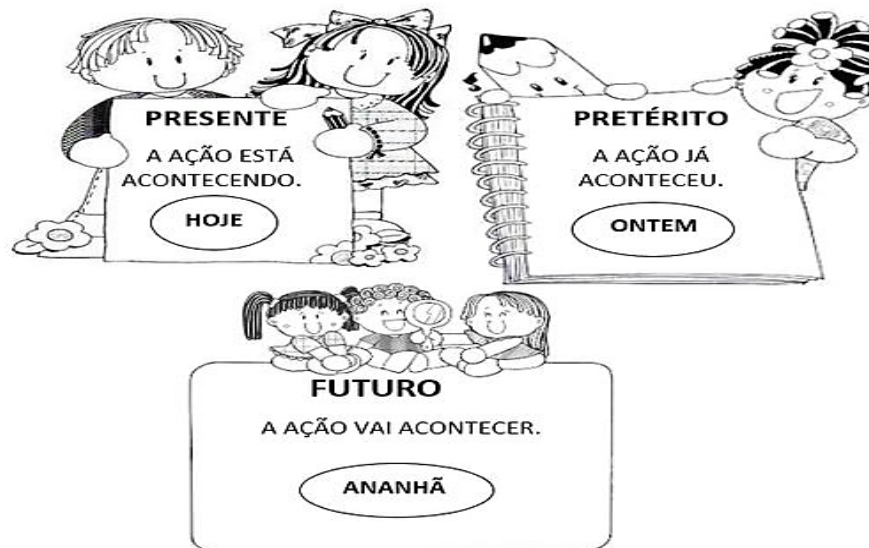
ASSISTA O VÍDEO: <https://youtu.be/2EiKFvW0js>

AGORA OBSERVE:

O GAROTO PESCA NO RIACHO → A AÇÃO ETÁ ACONTECENDO.

O PAI DO GAROTO **EXPLICOU** SOBRE OS PEIXES. → A AÇÃO JÁ ACONTECEU

O GAROTO PLANTARÁ ÁRVORES FRUTÍFERAS. → A AÇÃO VAI ACONTECER.



FONTE DISPONÍVEL EM: <https://br.pinterest.com/pin/796996465302847831/> - ACESSO EM 16/07/2021

Atividades

❖ Complete as frases com os verbos entre parênteses, nos tempos pedidos:

- Nós dos nossos pais. (gostar - presente)
- Eu com você. (viajar - futuro)
- Elas na quadra. (brincar - passado)
- Amanhã, eles uma peça. (apresentar - futuro)
- João de ajuda. (precisar - presente)

FONTE DISPONÍVEL EM: <http://www.professorzezinhoramos.com/2020/08/atividades-do-4-ano-fundamental.html> - ACESSO EM: 16/07/2021

Português

Data: 10 de agosto de 2021.

❖ Escreva os verbos na coluna certa e sublinhe os que estão na 1ª conjugação.

FONTE DISPONÍVEL EM: <http://www.professorzezinhoramos.com/2020/08/atividades-do-4-ano-fundamental.html> - ACESSO EM: 16/07/2021

COMPLETE O QUADRO ABAIXO!



Presente	Passado ou pretérito	Futuro
Eu durmo	Eu _____	Eu _____
Tu _____	Tu _____	Tu dormirás
Ele _____	Ele dormiu	Ele _____
Nós _____	Nós _____	Nós _____
Vós _____	Vós dormistes	Vós _____
Eles dormem	Eles _____	Eles _____

FONTE DISPONÍVEL EM: <http://www.professorzezinhoramos.com/2020/08/atividades-do-4-ano-fundamental.html> - ACESSO EM: 16/07/2021

Português

Data: 10 de agosto de 2021.

Ortografando

► Palavras com: ge-gi|gue-gui - gua



Organize as sílabas, descubra as palavras e copie na coluna certa.

g u a á g u i á a g u a l i n g u e s a n

g u e t e f o l g e m a a l t a r g u i r a g u a n i r a

f a g i r a a g u e ç o u p r e ç a g u i s i a g i n á

c h e g u a g a n g i t e r a n j o g u e c a d a s t e g u i n

l o g e t i l a g e g i m á c a a l é i g e

ge	gi	gue	gui	gua

FONTE DISPONÍVEL EM: <http://www.professorzezinhoramos.com/2020/08/atividades-do-4-ano-fundamental.html> - ACESSO EM: 16/07/2021

Ciências

Data: 11 de agosto de 2021.

O ar

O ar está em volta da Terra e é muito importante para a nossa vida.



Não vemos o ar, mas ele está presente em todo o parque.

O ar é uma mistura de vários gases, entre eles, o oxigênio, que usamos para respirar.

O ar entra pelo nariz e pela boca e vai até os pulmões. Aí o oxigênio passa para o sangue, que percorre todo o nosso corpo.

No parque, há muitas plantas. Nele não entram carros e ônibus. Por isso, o ar de um parque é melhor para se respirar do que o ar do centro da cidade.

FONTE DISPONÍVEL EM: <https://br.pinterest.com/pin/418342252890937879/> - ACESSO EM 16/07/2021

ASSISTA O VÍDEO: https://youtu.be/AvfaS_AM8qQ

Ciências

Data: 11 de agosto de 2021.

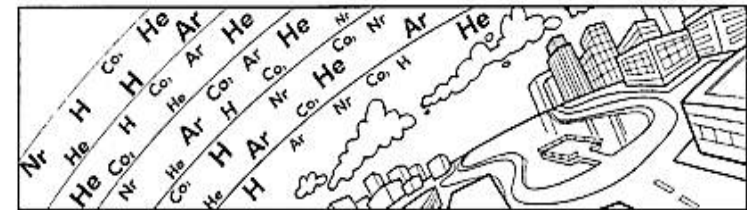
A Terra está envolvida por uma camada de gases. Essa camada é formada por uma mistura de gases chamada **atmosfera**.

Sem a atmosfera não seria possível a vida em nosso planeta. Por isso, o ar está presente em todos os lugares. Penetra no solo, está dissolvido na água, entra e sai de dentro dos animais, funciona como filtro de raios solares, controla a temperatura ambiente, etc.

O ar é indispensável para sobrevivência de todos os seres vivos, pois ele carrega um gás essencial ao processo de respiração: o oxigênio.

Além do oxigênio, o ar é constituído também de:

- vapor d'água;
- gases: gás carbônico (CO₂), nitrogênio, gases nobres (argônio, neônio, hélio, etc.).



LIGUE-SE NESTA!

① Qual é o nome da camada de ar que envolve a Terra?

② Onde o ar é encontrado?

③ Qual é o gás essencial à sobrevivência dos seres vivos?

Oxigênio

Nitrogênio

Gás carbônico

VOCE SABIA?

O vento nada mais é que o ar em movimento.

FONTE DISPONÍVEL EM: <http://ejalugarfeitopravoce.blogspot.com/p/atividades-para-voce-aproveitar-e.html> - Acesso em 23/07/2021.

Ciências

Data: 11 de agosto de 2021.

COMPONENTES DO AR

O ar é formado pela mistura de vários gases que veremos a seguir.

Nitrogênio

O nitrogênio representa 78% do ar atmosférico. Ele não é absorvido diretamente do ar em forma de gás pelas plantas e animais. Existem bactérias especializadas em absorver o nitrogênio do ar na forma de gás. Essas bactérias, que vivem geralmente nas raízes das plantas, transformam o nitrogênio em nitrato e, assim, as plantas conseguem o nitrogênio de que precisam. Já os animais, ao se alimentarem das plantas, obtêm o nitrogênio necessário.

Oxigênio

Cerca de 21% do ar atmosférico é formado de oxigênio.

Não é o gás mais abundante, mas é o de maior importância para a sobrevivência de, praticamente, todos os seres vivos, pois ele é importantíssimo no processo de respiração.

Além disso, o oxigênio é um importante gás **comburente**, ou seja, é o oxigênio que serve de alimento a combustão (fogo).

Gás carbônico

O gás carbônico existe em pequenas quantidades no ar, mas nos últimos tempos por causa da queima de combustível pelos carros e da eliminação dos resíduos industriais pelas chaminés das fábricas, a quantidade do gás carbônico tem aumentado, o que contribui para o chamado **efeito estufa**.

O gás carbônico também é eliminado durante a respiração dos seres vivos. Esse gás é importantíssimo para as plantas, no processo da fotossíntese.



FONTE DISPONÍVEL EM: <http://ejalugarfeitopravoce.blogspot.com/p/atividades-para-voce-aproveitar-e.html> - Acesso em 23/07/2021

Ciências

Data: 11 de agosto de 2021.

- Complete conforme a legenda:

CERTO ERRADO

- Nós conseguimos viver sem o ar.
- O vento é o ar em movimento.
- Todo espaço é ocupado pelo ar.
- O vento, quando está muito forte, é perigoso.
- O ar não move moinhos e barcos à vela.
- Podemos sentir o ar, quando recebemos a brisa em nosso rosto.
- O vento enfurecido causa transtornos à natureza.
- O vento forte é chamado de brisa.
- O ar não tem cor, nem cheiro.



FONTE DISPONÍVEL EM: <https://lereaprender.com.br/atividades-sobre-o-ar-para-imprimir/complete-com-a-legenda/> - Acesso em 23/07/2021

- Reescreva o texto abaixo de maneira que consigamos ler:

ACAMADADEARQUERECOBREATERRARECE
BEONOMEDEATMOSFERA.ELAÉCOMPOSTA
PORINÚMEROSGASESETAMBÉMPORCRISTAIS
DESAL,VAPORDEÁGUA,PÓLEN,BACTÉRIAS,
MICRÓBIOS,AREIAFININHA,RESTOSDE
COMBUSTÃOETC.

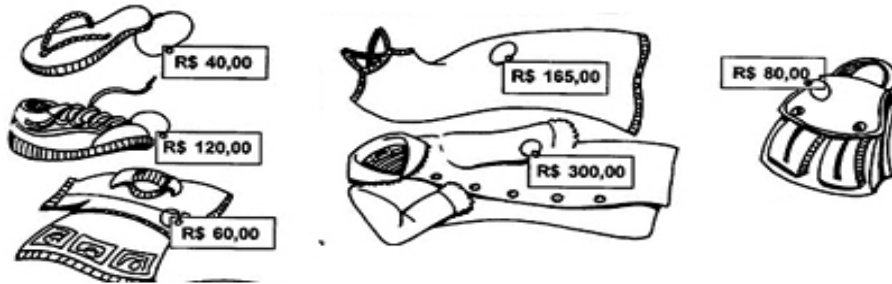


FONTE DISPONÍVEL EM: <https://lereaprender.com.br/atividades-sobre-o-ar-para-imprimir/recreva-o-texto/> - Acesso em 23/07/2021

Matemática

Data: 12 de agosto de 2021.

A loja "BELEZURA" está fazendo uma liquidação na parte de vestuário. Observe as peças em promoção:



1. Cada produto recebeu um desconto diferente. Observe a tabela abaixo e calcule o preço final de cada peça:

Produto	Preço normal	Desconto	Preço com desconto
CHINELOS	R\$ 40,00	R\$ 4,00	R\$ 36,00
CAMISETA		R\$ 10,00	
BOLSA		R\$ 8,00	
TÊNIS		R\$ 10,00	
VESTIDO		R\$ 15,00	
CASACO		R\$ 30,00	

2. Agora, vamos ver o que Gabi e suas amigas gastaram...

a) Gabi comprou um par de chinelos e um vestido. Qual é o valor de sua compra?



FONTE DISPONÍVEL EM: http://blogdaprofessoraedivania.blogspot.com/2012/09/situacao-problema_6.html?m=1 - Acesso em 23/07/2021.

R: _____

Matemática

Data: 12 de agosto de 2021.

Resolva as multiplicações

$$\begin{array}{r} 16 \\ \times 15 \\ \hline \square\square \\ + \square\square 0 \\ \hline \square\square\square \end{array}$$

$$\begin{array}{r} 27 \\ \times 15 \\ \hline \square\square\square \\ + \square\square 0 \\ \hline \square\square\square \end{array}$$

$$\begin{array}{r} 30 \\ \times 15 \\ \hline \square\square\square \\ + \square\square 0 \\ \hline \square\square\square \end{array}$$

$$\begin{array}{r} 55 \\ \times 15 \\ \hline \square\square\square \\ + \square\square 0 \\ \hline \square\square\square \end{array}$$

$$\begin{array}{r} 22 \\ \times 15 \\ \hline \square\square\square \\ + \square\square 0 \\ \hline \square\square\square \end{array}$$

$$\begin{array}{r} 40 \\ \times 15 \\ \hline \square\square\square \\ + \square\square 0 \\ \hline \square\square\square \end{array}$$

$$\begin{array}{r} 19 \\ \times 15 \\ \hline \square\square \\ + \square\square 0 \\ \hline \square\square\square \end{array}$$

$$\begin{array}{r} 50 \\ \times 15 \\ \hline \square\square\square \\ + \square\square 0 \\ \hline \square\square\square \end{array}$$

$$\begin{array}{r} 15 \\ \times 15 \\ \hline \square\square \\ + \square\square 0 \\ \hline \square\square\square \end{array}$$

FONTE DISPONÍVEL EM:

<http://continhasfundamentais.blogspot.com/2018/01/atividade-de-multiplicacao-com-dois.html> - Acesso em 23/07/2021.

Arte

Data: 13 de agosto de 2021.

ARTE NAIF

O termo arte naif é usado para descrever um tipo de arte considerada original e instintiva. A palavra naif, de origem francesa, é usada para remeter a algo que é “ingênuo ou inocente”. Dessa forma, esse estilo artístico é feito por artistas sem formação no campo das artes especificamente. Ou seja, por artistas autodidatas que apenas seguem seus instintos, com o objetivo de criar um conceito de arte popular, sem muito conteúdo.


Características da Arte Naif

A principal característica da arte naif é a falta de qualidade formal. Ou seja, os desenhos e grafias não contam com um acabamento próprio, deixando uma notável deficiência na aplicação das cores, texturas e sombras.

Principais Artistas e Obras da Arte Naif no Brasil

No Brasil também existem diversos artistas que se baseiam no estilo de arte naif para criar suas obras. Sendo assim, temos nomes de destaque como:

- Djanira da Motta e Silva;
- Maria Auxiliadora;
- Mestre Vitalino;
- Antônio Poteiro;
- Wilma Ramos;
- Heitor dos Prazeres.



Obra de Djanira da Motta e Silva.

Fonte: [eBiografia](#)

FONTA DISPONÍVEL EM: <https://conhecimentocientifico.r7.com/arte-naif/> - Acesso em 23/07/2021

Arte

Data: 13 de agosto de 2021.

ASSISTA O VÍDEO: <https://youtu.be/wj8OLzEzdH0>

- Pinte bem colorido esta obra Naif.



FONTA DISPONÍVEL EM: <https://br.pinterest.com/pin/432697476668751812/>
- Acesso em 23/07/2021

Português

Data: 16 de agosto de 2021

Lenda da Cuca

A Cuca é uma importante e conhecida personagem do universo do folclore brasileiro. É representada por uma velha, com cabeça de jacaré, que possui uma voz assustadora. De acordo com a lenda, a Cuca assusta e pega as crianças que não obedecem a seus pais.

A Cuca é um dos principais seres mitológicos do folclore brasileiro. Ela é conhecida popularmente como uma velha feia na forma de jacaré que rouba as crianças desobedientes. A origem desta lenda está num dragão, a "Coca" das lendas portuguesas, tradição que foi levada para o Brasil na época da colonização.

No Brasil, a "Cuca" normalmente é descrita como tendo a forma de um jacaré com longos cabelos loiros. Isso na verdade se tornou mais popular por causa das várias adaptações para a televisão da obra infantil de Monteiro Lobato, o Sítio do Picapau Amarelo, onde a personagem era sempre representada por uma atriz com uma fantasia de jacaré de cabelo amarelo. No livro original "O Saci" escrito por Monteiro Lobato em 1921, a personagem é descrita apenas como uma bruxa velha com rosto de jacaré, e unhas compridas como as de um gavião.

Ao chegar ao Brasil, a figura da Cuca passou a ser representada, em muitas regiões, como uma velha brava com cabelos compridos e desgrenhados, semelhante a uma bruxa.



ESTUDO DO TEXTO

1) Em quais países acredita-se que tenha surgido a lenda da Cuca?

2) Segundo a lenda, quem a Cuca costuma assustar?

3) Descreva a Cuca criada por Monteiro Lobato no livro "O Saci".

4) A palavra desgrenhados significa:

() pintados () despenteados () enrolados () molhados

FORNE DISPONÍVEL EM: <https://miriamveiga.com.br/folclore-texto-e-interpretacao-lenda-da-cuca/> - Acesso em 23/07/2021.

Português

Data: 16 de agosto de 2021.

- Escolha um dos ditados populares e em seguida ilustre ele:

uma ilustração para:

Em terra de cego, quem tem um olho é rei.

Cobra que não anda não engole sapo.

Em lagoa com piranhas, jacaré nada de costas.

Não se corta o galho onde se está sentado.

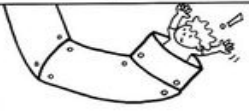
Nunca falta um chinelo velho para um pé cansado.

O que será que estes ditados querem dizer?




FORNE DISPONÍVEL EM: <https://br.pinterest.com/pin/406731410081080266/> - Acesso em 23/07/2021.


- O que você entende?



Ele entrou "pelo cano".



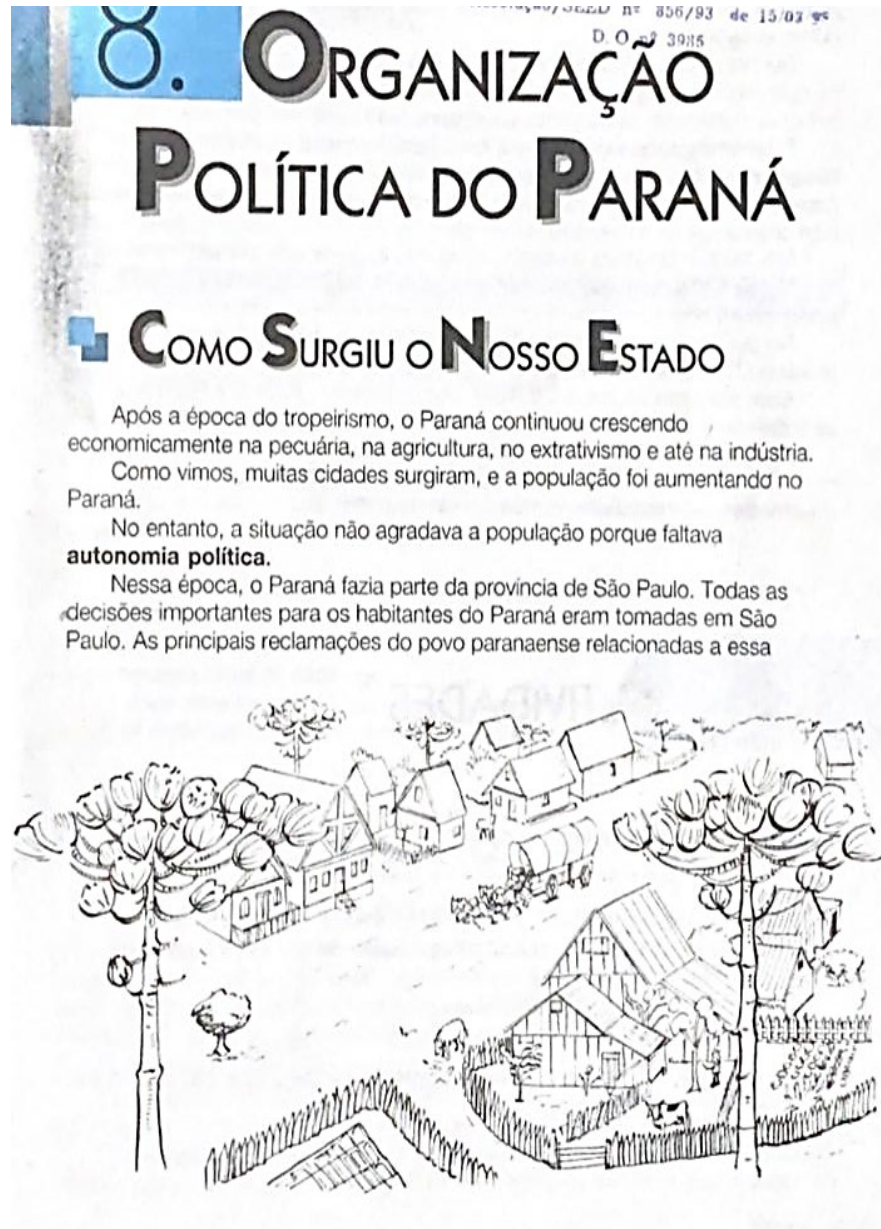
Água mole em pedra dura, tanto bate até que fura.



Fiquei com a "pulga atrás da orelha".

História

Data: 18 de agosto de 2021.



8. ORGANIZAÇÃO
POLÍTICA DO PARANÁ

COMO SURTIU O NOSSO ESTADO

Após a época do tropeirismo, o Paraná continuou crescendo economicamente na pecuária, na agricultura, no extrativismo e até na indústria. Como vimos, muitas cidades surgiram, e a população foi aumentando no Paraná.

No entanto, a situação não agradava a população porque faltava **autonomia política**.

Nessa época, o Paraná fazia parte da província de São Paulo. Todas as decisões importantes para os habitantes do Paraná eram tomadas em São Paulo. As principais reclamações do povo paranaense relacionadas a essa

História

Data: 18 de agosto de 2021.

situação política eram: isolamento (distância de São Paulo e estradas ruins), mau tratamento, impostos altos e poucos benefícios para o Paraná.

Por várias vezes a população paranaense pediu para que a comarca de Curitiba, ou 5ª Comarca da província de São Paulo, fosse transformada em província. Tentativas de separação foram feitas em 1811, em 1821 e em muitas outras ocasiões.

Ser província significava que o povo paranaense teria o seu próprio governo, no qual encontraria apoio para o desenvolvimento da sua agricultura, comércio, indústria, transporte, extrativismo, educação, saúde...

Finalmente, após muito esforço, em 19 de dezembro de 1853 o Paraná tornou-se província do Paraná, sendo escolhido como seu primeiro presidente Zacarias de Góes e Vasconcelos. Na época chamavam de presidente àquele que hoje chamamos de governador de estado.

Em 1853, o Brasil era uma monarquia, isto é, governada por um monarca.

Nessa forma de governo, o monarca governa até a sua morte e passa o poder para o filho.

No dia 15 de novembro de 1889, o marechal Deodoro da Fonseca proclamou a República e passou a ser o presidente do Brasil.

Com esse acontecimento, o Brasil, que era Império, passou a República e as províncias a estados. A província do Paraná passou a estado do Paraná.

Atualmente, os governantes, inclusive o presidente da República, são eleitos pelo voto popular para um determinado período de governo. Assim, os governantes vão sendo substituídos a cada nova eleição.

TUMA, Magda Madalena Peruzin. **Viver e descobrir...Paraná** : história e geografia. 1 ed. São Paulo : LTD, 1992. Texto escaneado 77 e 78.

- Pesquise:

a) Diferença entre:

MONARQUIA: _____

REPÚBLICA: _____

b) Qual a data da Proclamação da República no nosso país?

R: _____

História

Data: 18 de agosto de 2021.



Responda:

Complete as frases corretamente.

Você mora:

num país chamado...

num estado chamado...

num município chamado...

Além do município onde você mora, quantos municípios existem no Brasil?

Quem administra um município e quem faz as leis?

Quais são as outras cidades que você conhece?

Você mora na capital do seu estado?

Você mora:

na área rural

na área urbana

em um bairro

no centro



FONTE DISPONÍVEL EM: <https://atividadespedagogicasuzano.com.br/atividade-de-geografia-4-ano-mun/> - Acesso em 26/07/2021

História e Arte

Data: 18 de agosto de 2021.

Vamos colorir:



smart
kids
www.smartkids.com.br



DEMOCRACIA: PARTICIPAÇÃO DE TODOS!

FONTE DISPONÍVEL EM: <https://www.smartkids.com.br/colorir/desenho-democracia-participa%C3%A7%C3%A3o-todos> - Acesso em 26/07/2021

Português

Data: 19 de agosto de 2021.

LOBISOMEM

NAS NOITES DE QUINTA PARA SEXTA-FEIRA, QUANDO A LUA ESTÁ CHEIA, TODOS FICAM BEM PREOCUPADOS. É NOITE DE LOBISOMEM!

ESTA É UMA LENDA MUITO ANTIGA.

DIZEM QUE NASCE UM LOBISOMEM, QUANDO A MÃE TEM SETE FILHAS E O OITAVO É HOMEM.

ELE CRESCE COMO UMA CRIANÇA NORMAL E AOS TREZE ANOS DE IDADE SE TRANSFORMA EM LOBISOMEM PELA PRIMEIRA VEZ.

ELE É METADE HOMEM E METADE BICHO, PARECE COM UM LOBO, TEM O CORPO COBERTO POR PÊLOS E ORELHAS PONTUDAS. DIZEM QUE FICA NAS ENCRUZILHADAS OU NA PORTA DOS CEMITÉRIOS ESPERANDO SORRATEIRO, SUA VÍTIMA E UIVANDO PARA A LUA.

O LOBISOMEM ATACA AS PESSOAS E SUGA-LHES O SANGUE. QUEM É ATACADO POR UM LOBISOMEM, SE NÃO MORRER, TAMBÉM SE TRANSFORMARÁ NUM LOBISOMEM.

AO AMANHECER, QUANDO O GALO CANTA, ELE SE TRANSFORMA EM HOMEM NOVAMENTE.

PARA DESFAZER A SINA, É PRECISO CHEGAR BEM PERTO DELE, E SEM QUE ELE PERCEBA, BATER-LHE BEM FORTE NA CABEÇA COM UMA TORA DE CARVALHO.



ATIVIDADES DE FOLCLORE
EDITORA CIRANDA CULTURAL

AGORA, DE ACORDO COM O TEXTO QUE VOCÊ ACABOU DE LER, RESPONDA AS PERGUNTAS ABAIXO:

1 - QUANDO É NOITE DE LOBISOMEM?

2 - QUANDO NASCE UM LOBISOMEM?

3 - COM QUAL IDADE ELE SE TRANSFORMA EM LOBISOMEM PELA PRIMEIRA VEZ?

4 - QUAIS SÃO AS CARACTERÍSTICAS DO LOBISOMEM?

5 - O QUE ACONTECE QUANDO ALGUÉM É ATACADO POR UM LOBISOMEM?

Português

Data: 19 de agosto de 2021.

6 - QUANDO O LOBISOMEM SE TRANSFORMA EM HOMEM NOVAMENTE?

7 - O QUE É PRECISO PARA DESFAZER A SINA DO LOBISOMEM?

8- ENCONTRE NO QUADRO AS SEGUINTE PALAVRAS:

NORMAL - VÍTIMA - SOL - LUA - ENCANTO - CEMITÉRIO - ORELHAS - GALO - HOMEM - UIVANDO.

G	A	L	O	M	V	N	D	O	S	T	É	I	O	U	I
B	M	H	E	N	C	A	N	T	O	I	R	M	S	V	T
I	I	A	C	A	N	H	R	D	L	M	I	O	O	N	M
V	T	S	O	Y	A	E	O	P	N	N	O	R	M	A	L
A	I	H	T	L	T	N	D	M	V	A	O	U	I	L	A
N	V	O	P	U	H	U	L	H	E	R	T	I	O	O	I
É	N	M	Ç	A	O	I	D	O	L	M	O	V	V	J	O
I	O	D	B	M	S	V	O	M	H	G	L	A	U	G	A
O	R	L	O	I	R	É	T	I	M	E	C	N	L	A	P
C	V	U	T	C	E	M	I	N	U	I	O	D	O	M	N
I	I	S	A	H	L	E	R	O	M	A	L	O	V	A	L

9- MARQUE OS NUMEROS COM AS ALTERNATIVAS CORRETAS.

- 1) O LOBISOMEM PARECE UM LOBO.
- 2) O SETIMO FILHO PODE SER UM LOBISOMEM.
- 3) QUANDO AMANHECE O MONSTRO VIRA HOMEM.
- 4) ALGUÉM CORAJOSO, VESTIDO DE AZUL PODE DETER O BICHO.
- 5) O HOMEM VIRA LOBISOMEM ÀS SEXTAS-FEIRAS.
- 6) O LOBISOMEM VOA MUITO BEM.



FONTE DISPONÍVEL EM: <https://educacaoetransformacaooficial.blogspot.com/2019/08/lenda-do-lobisOMEM.html> - ACESSO EM 26/07/2021

- PRODUÇÃO DE TEXTO SOBRE LOBISOMEN - ANEXO

Matemática

Data: 20 de agosto de 2021.

MULTIPLICADOR COM DOIS ALGARISMOS

- Entenda as etapas da multiplicação:




	2	5	3	
	x 5 4			
1	0	1	2	
1	2	6	5	
1	3	6	6	2

→ 4 unidades x 253 - 1º produto parcial


→ 5 dezenas x 253 - 2º produto parcial

→ produto total

1- Efetue as operações:




3	6	4
x 3 5		



4	7	3
x 6 2		

<table style="margin-left: 20px;"> <tr><td>3</td><td>2</td><td>8</td></tr> <tr><td colspan="3">x 8 3</td></tr> <tr><td colspan="3">_____</td></tr> <tr><td colspan="3">_____</td></tr> </table>	3	2	8	x 8 3			_____			_____			<table style="margin-left: 20px;"> <tr><td>2</td><td>7</td><td>1</td></tr> <tr><td colspan="3">x 9 7</td></tr> <tr><td colspan="3">_____</td></tr> <tr><td colspan="3">_____</td></tr> </table>	2	7	1	x 9 7			_____			_____		
3	2	8																							
x 8 3																									

2	7	1																							
x 9 7																									



Fonte disponível em: <https://amorensina.com.br/atividades-de-matematica-4o-e-5o-ano/> - Acesso em: 26/07/2021

Matemática

Data: 20 de agosto de 2021.

- a) $346 \times 35 =$ d) $732 \times 73 =$
- b) $341 \times 36 =$ e) $483 \times 92 =$
- c) $57 \times 42 =$ f) $84 \times 47 =$

a)

<input type="text"/>	<input type="text"/>	<input type="text"/>
x <input type="text"/>		

b)

<input type="text"/>	<input type="text"/>	<input type="text"/>
x <input type="text"/>		

c)

<input type="text"/>	<input type="text"/>
x <input type="text"/>	

d)

<input type="text"/>	<input type="text"/>	<input type="text"/>
x <input type="text"/>		

e)

<input type="text"/>	<input type="text"/>	<input type="text"/>
x <input type="text"/>		

f)

<input type="text"/>	<input type="text"/>
x <input type="text"/>	

Fonte disponível em: <https://amorensina.com.br/atividades-de-matematica-4o-e-5o-ano/> - Acesso em: 26/07/2021

- ESCREVA COMO SE LÊ

11.356: _____

4.189: _____

866: _____

Português

Data: 23 de agosto de 2021.

VERBO

O verbo é a classe de palavras que exprime ação, estado, mudança de estado, fenômeno da natureza.



Camila pula corda na varanda.

1. Complete as frases de acordo com as ações dos personagens:



Paulo e João _____ de carrinho.



As irmãs _____ um livro de histórias.



Papai _____ o carro todo feliz.



Bia está _____ sopa de fubá.



Janete _____ com seu cachorro Bilu.

leem passeia brincam dirige comendo

FONTE DISPONÍVEL EM: <https://danieducar.com.br/verbos-3-ano/> - ACESSO 26/07/2021

Português

Data: 23 de agosto de 2021.

2. Leia a tirinha circule os verbos. Depois escreva-os nas linhas abaixo:



3. Vamos cantar a cantiga de roda e encontrar os verbos, circulando com lápis de cor azul.

O cravo brigou com a rosa

Domínio público

O cravo brigou com a rosa
Debaixo de uma sacada
O cravo saiu ferido
E a rosa despedaçada
O cravo ficou doente
E a rosa foi visitar
O cravo teve um desmaio
E a rosa pôs-se a chorar
A rosa fez serenata
O cravo foi espiar
E as flores fizeram festa
Porque eles vão se casar



FONTE DISPONÍVEL EM: <https://danieducar.com.br/verbos-3-ano/> - ACESSO 26/07/2021

Português

Data: 23 de agosto de 2021.

4. Complete as frases com os verbos de acordo com os

- a) A costureira costura .
- b) O pintor _____
- c) A dançarina _____
- d) O cachorro _____
- e) O professor _____
- f) O cantor _____

5. Observe as cenas dos personagens abaixo e enumere os verbos.



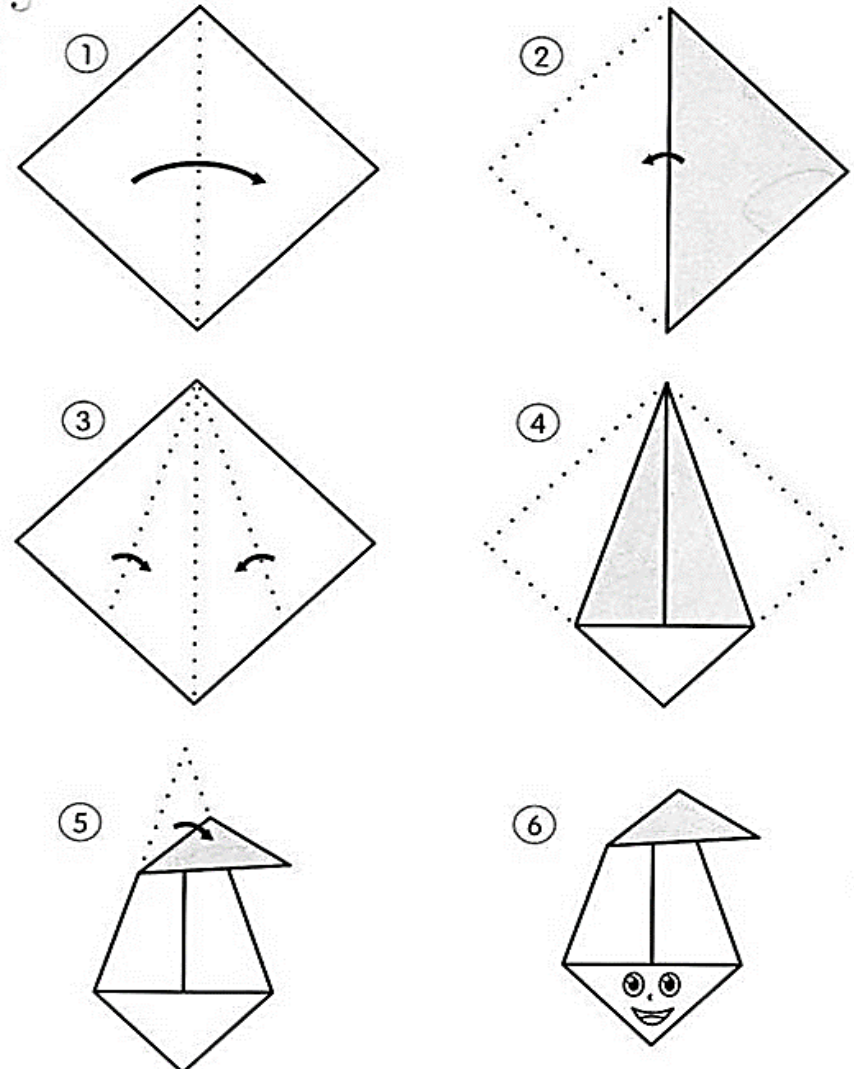
- | | |
|----------------------------------|-----------------------------------|
| <input type="checkbox"/> chutar | <input type="checkbox"/> rodopiar |
| <input type="checkbox"/> voar | <input type="checkbox"/> pular |
| <input type="checkbox"/> pedalar | <input type="checkbox"/> patinar |

Arte:

- Faça a dobradura do Saci, cole em seu caderno de arte e monte um cenário bem criativo. Depois tire uma foto e mande para a professora:



DOBRADURA DO SACI.



História

Data: 24 de agosto de 2021.

O PODER PÚBLICO

O povo brasileiro, por meio do voto, elege seus representantes para cuidar, administrar o País, o Estado e o Município. São os vereadores, os deputados estaduais e federais, o prefeito, os senadores, o governador e o presidente da República. Essas pessoas são as responsáveis pelas leis brasileiras e formam o Poder Público.

O Poder Público é dividido em:

- Poder Legislativo: faz as leis;
- Poder Executivo: aprova e coloca as leis em prática;
- Poder Judiciário: fiscaliza a aplicação das leis.

Esses três poderes existem para colocar em prática e fazer cumprir as leis que são feitas para todos.

FONTE DISPONÍVEL EM: <https://onlinecursosgratuitos.com/6-atividades-sobre-os-tres-poderes-para-imprimir/> - ACESSO EM 26/07/2021

Os Três Poderes

Todas as ações do governo devem ser feitas obedecendo à lei. Para que não ocorram favorecimento ou desvios de dinheiro, existe a divisão de poderes.

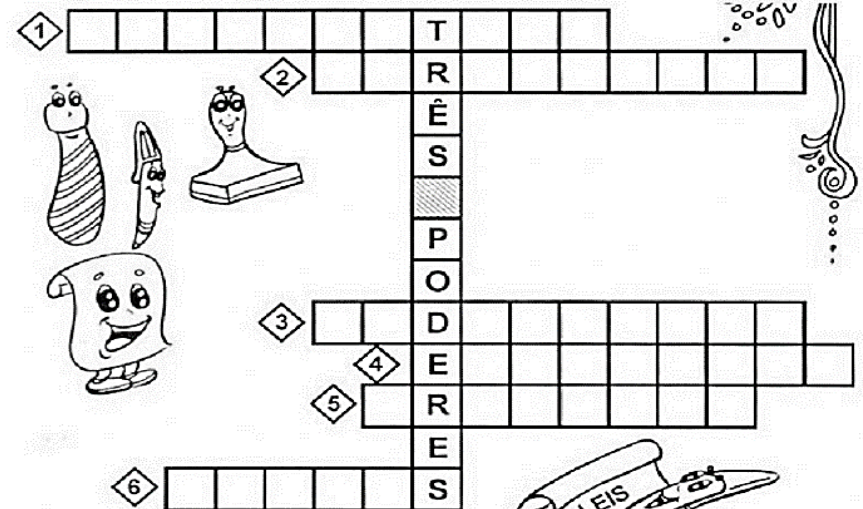
Essa divisão acontece nos governos federal, estaduais e municipais. Observe o quadro:

Três poderes	No município	No estado	No país
Poder executivo (administra de acordo com as leis)	Prefeito	Governador	Presidente
Poder Legislativo (elabora leis e fiscaliza a administração do Poder Executivo)	Vereadores (Câmara Municipal)	Deputados estaduais (Assembléia Legislativa)	Deputados Federais e senadores (Câmara dos Deputados e Senado Federal)
Poder Judiciário (fiscaliza e faz cumprir as leis)	Não há Poder Judiciário	Juízes (tribunais estaduais)	Juízes (Supremo Tribunal Federal)

FONTE DISPONÍVEL EM: <https://br.pinterest.com/pin/614459942884458727/> - ACESSO EM 26/07/2021

História

Resolva a cruzadinha.



- 1 Poder que elabora as leis.
- 2 Elaboram as leis no município.
- 3 Poder que fiscaliza se as pessoas cumprem as leis.
- 4 Poder que executa as leis.
- 5 É o chefe do Poder Executivo Municipal.
- 6 Trabalha no Fórum e faz com que as leis sejam cumpridas.

FONTE DISPONÍVEL EM: <https://br.pinterest.com/pin/294915475593162347/> - ACESSO EM 26/07/2021

PESQUISE:

a) Nome do Presidente e vice presidente do Brasil:

b) Nome do governador e vice governador do Paraná:

c) Nome da prefeita e vice prefeito de Ponta Grossa:

Ciências

Data: 24 de agosto de 2021.

COMPOSIÇÃO do AR

Encontre as respostas no caça-palavras abaixo:

- 1- O ar é _____ e não conseguimos viver sem ele.
- 2- Gás que existe em maior quantidade no ar. _____
- 3- Camada que protege a Terra dos raios solares. _____
- 4- É um gás essencial à sobrevivência e é absorvido pelos seres vivos durante a respiração. _____
- 5- Gás que as plantas retiram do ar e utilizam para produzir seu alimento. _____
- 6- São os responsáveis pela umidade do ar. _____



FONTE DISPONÍVEL EM: <https://escolaeducacao.com.br/atividades-sobre-o-ar/> - ACESSO EM 26/07/2021

Ciências e Arte

Data: 24 de agosto de 2021.

VENTO É O AR EM MOVIMENTO! VAMOS FAZER UM CATAVENTO PARA PROVAR A EXISTÊNCIA DO AR? VAMOS USAR O MATERIAL QUE NOS FOI MANDADO. NÃO ESQUEÇA DA FOTO!

Construindo um cata-vento

O que é necessário

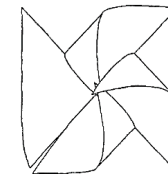
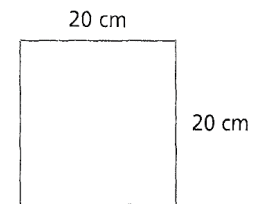
- pedaço de cartolina
- régua
- percevejo
- tesoura sem ponta
- vareta de madeira

Desenvolvimento

1. No pedaço de cartolina, desenhe e recorte um quadrado com cerca de 20 centímetros de lado.
2. Trace duas linhas no quadrado, como mostra a figura ao lado.
3. Partindo de cada canto do quadrado, em direção ao centro, faça um corte de aproximadamente 7 centímetros na linha.

Fique atento

Tenha cuidado ao manusear a tesoura sem ponta e a vareta de madeira. Não manuseie o percevejo.

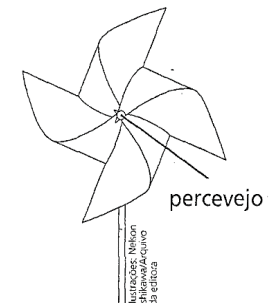


4. Leve quatro das pontas que se formaram até o centro do quadrado, de forma que fiquem alternadas. Observe a figura ao lado.

5. Peça a um adulto que prenda na vareta as pontas que foram dobradas, utilizando o percevejo.

Fique atento

Certifique-se de que seu cata-vento esteja girando facilmente. Caso isso não ocorra, peça ao adulto que afrouxe um pouco o percevejo.



Para que seu cata-vento gire, leve-o a um local onde esteja ventando ou corra segurando-o voltado para a frente, mantendo o braço estendido.


FONTE DISPONÍVEL EM: https://mirnaassad.blogspot.com/2014_07_11_archive.html - ACESSO EM 26/07/2021

Português

Data: 25 de agosto de 2021.

LIGUE-SE NA SÍLABA!

Complete as palavras com uma das sílabas em destaque no balão. Depois, escreva as palavras ao lado.



____ nuca _____
 Ca ____ que _____
 Per ____ ana _____
 ____ garra _____
 ____ rene _____
 Man ____ dão _____
 Sal ____ cha _____
 ____ catriz _____
 ____ nal _____
 Ma ____ o _____
 On ____ nha _____
 ____ nema _____
 Ofi ____ na _____
 An ____ oso _____
 Bi ____ cleta _____
 ____ entista _____


FONTE DISPONÍVEL EM: <https://br.pinterest.com/pin/497225615089016683/> - ACESSO EM 26/07/2021

Português

Data: 25 de agosto de 2021.

CACA-CEGUSE

A	C	E	T	O	N	A	M	N	W	Q	S
Q	R	S	C	S	P	K	L	G	Y	D	E
U	S	E	D	E	N	T	O	R	P	W	R
E	N	M	F	L	F	T	B	Z	L	C	R
C	Q	A	R	E	N	R	L	U	C	O	A
E	U	N	G	Ç	R	L	L	N	E	N	G
D	D	A	T	Â	K	Q	C	R	N	S	E
O	D	L	P	O	C	R	B	J	O	E	M
R	S	R	D	A	K	T	V	O	U	L	A
Z	C	E	R	Â	M	I	C	A	R	H	P
A	C	E	N	T	U	A	D	O	A	O	V
S	E	M	I	N	Â	R	I	O	R	H	P
Z	C	D	N	T	W	C	Ê	D	U	L	A



FONTE DISPONÍVEL EM: <https://br.pinterest.com/pin/497225615089016690/> - ACESSO EM 26/07/2021

- Reescreva as palavras encontradas acima:

- PRODUÇÃO TEXTUAL EM ANEXO:

Português

Data: 27 de agosto de 2021

LIQUE-SE NAS AÇÕES!



Complete a história com as ações abaixo.

late

toma

come

corre

Olá! Eu sou a Larissa.

Tenho um cãozinho muito levado. Sabe o que ele faz?

Ele _____ o tempo todo, _____

muito alto e _____ o osso no pratinho azul.

Ele é tão esfomeado!

Você acredita que o levadinho _____ o leite na mamadeira? É sim! E dá cambalhotas no ar!

Continue as frases:

Eu passeio com o cãozinho.

Ele _____

Nós _____



FONTE DISPONÍVEL EM: <https://br.pinterest.com/pin/369858188131970608/> - ACESSO EM 26/07/2021

Português

Data: 27 de agosto de 2021.

DESCOBRINDO VERBOS

Complete as frases com um verbo.

- 1- Eu _____ um lindo cão.
- 2- A costureira _____ meu vestido.
- 3- Quando _____, o rio transborda.
- 4- Nós _____ os exercícios.
- 5- Amanhã papai _____ uma viagem.
- 6- Patrícia _____ os índios pataxós.



Circule os verbos nas frases abaixo e classifique-os de acordo com a legenda:

1 Ação

2 Estado

3 Fenômeno da natureza

- Ventou muito forte esta manhã.
- Pedro escreveu uma carta para seu avô.
- Meu cãozinho ficou doente.
- No inverno, neva muito na Europa.
- Amanhã, vamos jogar futebol no campinho.
- A professora estava feliz com a turma.



FONTE DISPONÍVEL EM: <https://todaatual.com/wp-content/uploads/2014/09/atividadesdeverbos5%C2%BAano-7.jpg> - ACESSO EM 26/07/2021

Português

Data: 30 de agosto de 2021.

A BORBOLETA E O BESOURO



Uma borboleta de asas coloridas voava, de flor em flor, no jardim da casa de dona Elisabete.

Veio um besouro e pousou na rosa mais viçosa do jardim.

A borboleta não gostou nada. Ela desejou que o besouro caísse da roseira, mas ele abriu suas asinhas pretas e começou a zumbir: bizu... u... u... u...

A borboleta, assustada, voou para uma margarida e ficou lá quietinha... quietinha... até o besouro ir embora.

Graça Boquet

1) Circule, no texto, as palavras com s que tenham o som de z e escreva-as abaixo.

_____	_____
_____	_____
_____	_____
_____	_____
_____	_____

FONTE DISPONÍVEL EM: <https://revistazunai.com.br/interpretacao-de-texto-1o-2o-3o-e-4o-ano/> - ACESSO EM 26/07/2021.

- AGORA REGISTRE O TEXTO ACIMA EM SEU CADERNO DE CALIGRAFIA.

Matemática

Data: 30 de agosto de 2021.

1. Represente os números no quadro valor lugar:

	Classe dos milhares			Classe das unidades		
	6ª ordem	5ª ordem	4ª ordem	3ª ordem	2ª ordem	1ª ordem
	Centena de milhar CM	Dezena de milhar DM	Unidade de milhar UM	Centena simples C	Dezena simples D	Unidade simples U
2.541						
350						
12.427						
1.658						
2.300						
567						

Agora complete:

- O numeral 2.541 tem _____ classes e _____ ordens.
- O numeral 350 tem _____ classes e _____ ordens.
- O numeral 12.427 tem _____ classes e _____ ordens.
- O numeral 1.658 tem _____ classes e _____ ordens.
- O numeral 2.300 tem _____ classes e _____ ordens.
- O numeral 567 tem _____ classes e _____ ordens.

2. Represente os numerais de diferentes maneiras: (UM, C, D, U)

a) 1.234 _____

Complete: $1.000 + \underline{\hspace{1cm}} + \underline{\hspace{1cm}} + \underline{\hspace{1cm}} = \underline{\hspace{1cm}}$

b) 2.504 _____

Complete: $2.000 + \underline{\hspace{1cm}} + \underline{\hspace{1cm}} = \underline{\hspace{1cm}}$

c) 548 _____

Complete: $\underline{\hspace{1cm}} + \underline{\hspace{1cm}} + \underline{\hspace{1cm}} = \underline{\hspace{1cm}}$

d) 860 _____

Complete: $\underline{\hspace{1cm}} + \underline{\hspace{1cm}} = \underline{\hspace{1cm}}$

3. Escreva por extenso os numerais:

a) 509 _____

b) 1.357 _____

FONTE DISPONÍVEL: <https://eemarialuizarosa.wixsite.com/escola/post/6%C2%BA-ano> - ACESSO EM 26/07/2021

Aluno (a): _____

Professora: _____ Série: _____

Data: ____/____/____


DIA OS PAIS

PAPAI, EU SEI QUE SEMPRE POSSO CONTAR COM VOCÊ, COM SEU AMOR, SUA SABEDORIA. E O DIA DOS PAIS É O MOMENTO PERFEITO PARA DIZER MUITO OBRIGADO POR TUDO O QUE VOCÊ FEZ. EU TE AMO. FELIZ DIA DOS PAIS.



➤ ESCREVA O QUE VOCÊ GOSTARIA DE DIZER PARA SEU PAI.

DIPLÔMA



melhor pai do mundo

Papai, este diploma é seu, por ser tão carinhoso, amigo, por tudo que você faz de legal e mesmo pelas coisas não tão legais, mas que eu sei que são para o meu bem (me colocar na cama cedo, não me deixar tomar sorvete no almoço e no jantar, por exemplo).

Você é o melhor pai do mundo!

feliz dia dos pais!



Aluno (a): _____

Professora: _____ Série: _____

Data: ____ / ____ / ____



FOLCLORE



Escreva o que você aprendeu sobre o LobisOMEM:



AUUUUU...

EDUCAÇÃO FÍSICA

PROFESSOR: MARCOS AURÉLIO DOS SANTOS

ALUNO (A): _____ 4º ANO _____



RESOLVA AS OPERAÇÕES PARA VER QUANTOS PONTOS AS TURMAS DO 4º ANO FIZERAM QUANDO DISPUTARAM A MODALIDADE DE BOLA AO CESTO NO JOCA – JOGOS DO CAIC.

$$\begin{array}{|c|} \hline 19 \\ \hline \end{array} + \begin{array}{|c|} \hline 22 \\ \hline \end{array} = \begin{array}{|c|} \hline \\ \hline \end{array}$$

$$\begin{array}{|c|} \hline 13 \\ \hline \end{array} + \begin{array}{|c|} \hline 25 \\ \hline \end{array} = \begin{array}{|c|} \hline \\ \hline \end{array}$$

$$\begin{array}{|c|} \hline 19 \\ \hline \end{array} + \begin{array}{|c|} \hline 22 \\ \hline \end{array} = \begin{array}{|c|} \hline \\ \hline \end{array}$$

NO TOTAL, AS TURMAS FIZERAM

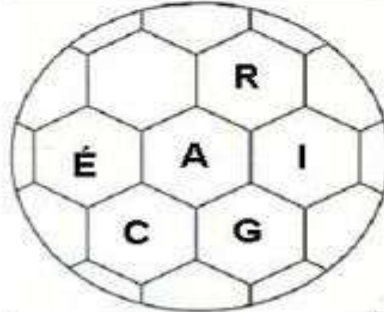
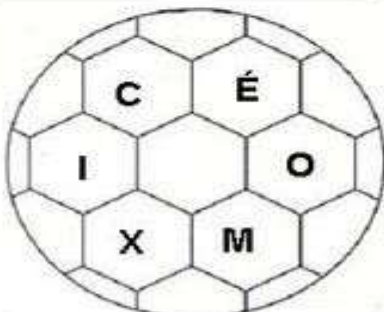
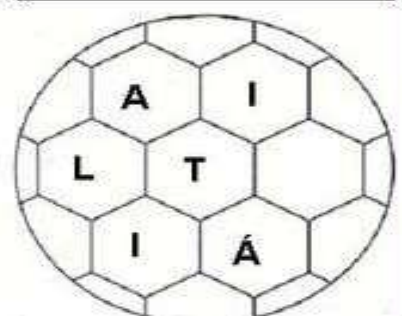
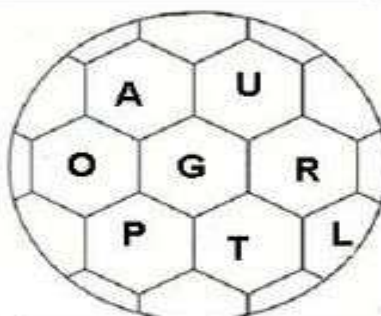
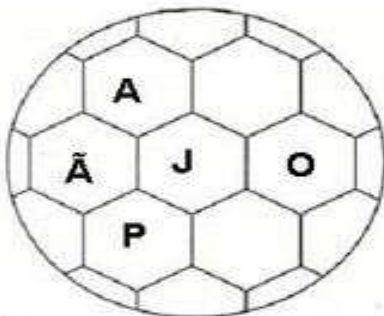
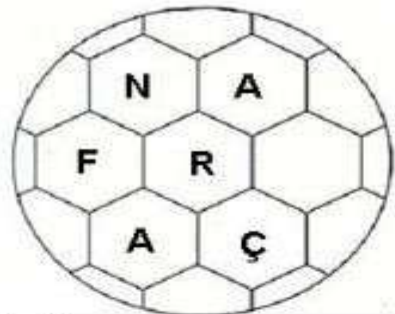
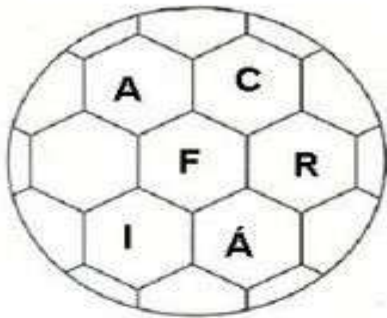
PONTOS.

EDUCAÇÃO FÍSICA

PROFESSOR: MARCOS AURÉLIO DOS SANTOS

ALUNO (A): _____ 4º ANO _____

DESCUBRA OS NOMES DOS PAÍSES



EDUCAÇÃO FÍSICA

PROFESSOR: MARCOS AURÉLIO DOS SANTOS

ALUNO (A): _____ 4º ANO _____

VAMOS SEGUIR AS COORDENADAS E DESCOBRIR O NOME DO ESPORTE QUE A MÔNICA E A MAGALI ESTÃO PRATICANDO.



X	1	2	3	4
A	I	A	D	O
B	D	N	S	C
C	R	I	O	N
D	N	A	Z	O

1-D	2-A	1-B	4-D

3-B	1-A	2-B	4-B	1-C	4-A	4-C	2-C	3-D	2-D	3-A	3-C

EDUCAÇÃO FÍSICA

PROFESSOR: MARCOS AURÉLIO DOS SANTOS

ALUNO (A): _____ 4º ANO _____

PINTE DE ACORDO COM A LEGENDA:

1 AZUL CLARO	2 VERDE	3 BRANCO	4 MARROM	5 AMARELO	6 VERMELHO	7 ROSA	8 AZUL ESCURO	9 PRETO
--------------------	------------	-------------	-------------	--------------	---------------	-----------	---------------------	------------



Fonte: Disponível em:

<https://docs.google.com/viewer?a=v&pid=sites&srcid=ZGVmYXVsdGRvbWFpbXhcnF1aXZvc2RvYmxvZzN8Z3g6MTBIODcwMGZiOTdlZTZiYQ>

Acesso em 27 de julho de 2021. Atividade adaptada.