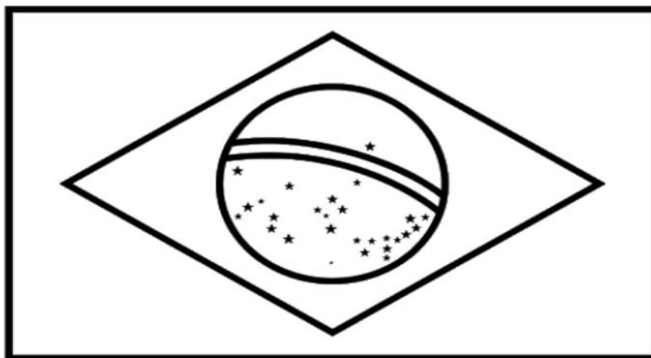


ALUNO: _____ GRUPO: 1º ano _____

ATIVIDADE DO DIA 01/09/2021

SETEMBRO - 2021



07/09 - INDEPENDÊNCIA DO BRASIL

D	S	T	Q	Q	S	S
			1	2	3	4
5	6	7	8	9	10	11
12	13	14	15	16	17	18
19	20	21	22	23	24	25
26	27	28	29	30		

NOME: _____

DATA: 01/09/2021



O QUE É UM TRAVA-LÍNGUA?

TRAVA-LÍNGUA É UM PEQUENO TEXTO COM FRASES DIFÍCEIS DE PRONUNCIAR FORMADA POR MUITAS SÍLABAS PARECIDAS.

VAMOS TENTAR?

SABIÁ SABIDO SABE ASSOBIAR.

7 DE SETEMBRO!



HINO DA INDEPENDÊNCIA

JÁ PODEIS DA PÁTRIA
FILHOS,
VER CONTENTE A MÃE
GENTIL!
JÁ RAIOU A LIBERDADE
NO HORIZONTE DO BRASIL,
JÁ RAIOU A LIBERDADE
JÁ RAIOU A LIBERDADE
NO HORIZONTE DO BRASIL!

BRAVA GENTE BRASILEIRA
LONGE VÁ, TEMOR SERVIL;
OU FICAR A PÁTRIA LIVRE,
OU MORRER PELO BRASIL.
OU FICAR A PÁTRIA LIVRE,
OU MORRER PELO BRASIL.



ENCONTRE E PINTE NO TEXTO AS PALAVRAS DO QUADRO


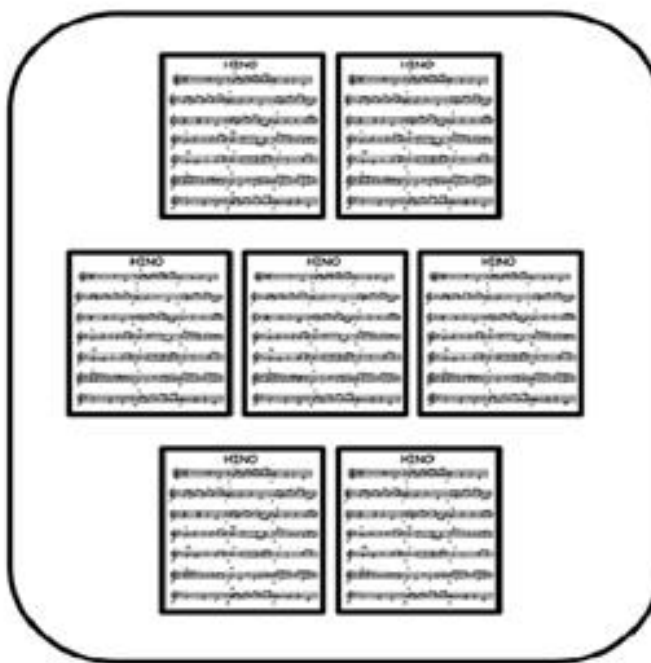
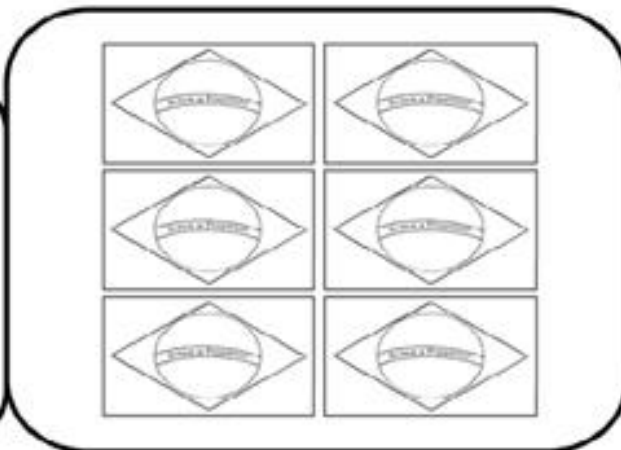
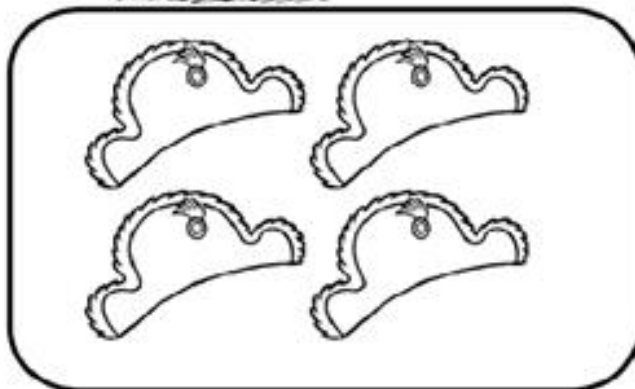
PÁTRIA	GENTIL
MÃE	LIVRE
HORIZONTE	BRASIL

NOME: _____

DATA: 03/09/2021



VAMOS LIGAR CADA CONJUNTO DE FIGURAS AO NÚMERO CORRESPONDENTE!



COMPLETE AS PALAVRAS COM AS SÍLABAS ABAIXO:

DA
CA

MA
BO

JA
LU

FA
GA



___LO



___DO



___SA



___TO



___DA



___CACO






___CARÉ




___A




SOMANDO COM OS DADOS

0 1 2 3 4 5 6 7 8 9



 $+$

 $=$





 $+$

 $=$




 $+$

 $=$





 $+$

 $=$




 $+$

 $=$





 $+$

 $=$




 $+$

 $=$





 $+$

 $=$




 $+$

 $=$


 $+$

 $=$



 $+$

 $=$


 $+$

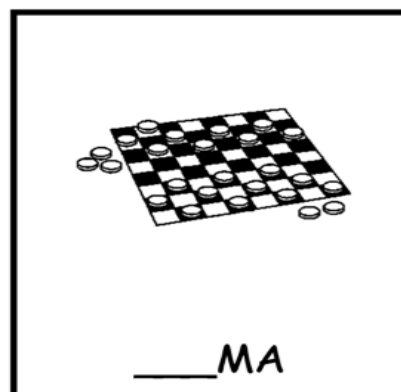



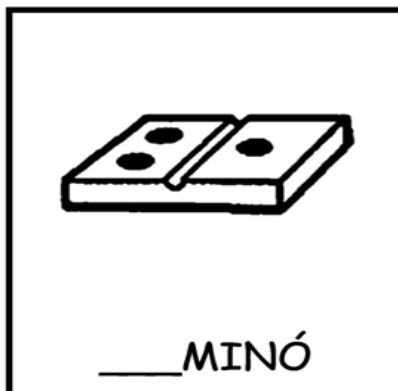


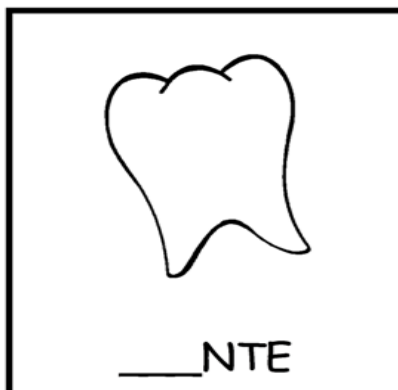

 $=$


NOME: _____

DATA: 09/09/2021

VAMOS COMPLETAR AS PALAVRAS:

DA - DE - DI - DO - DU



MATEMÁTICA

1. ESCREVA OS NÚMEROS:

DOIS _____

CINCO _____

SETE _____

QUATRO _____

TRÊS _____



UM _____

SEIS _____

NOVE _____

OITO _____

DEZ _____

2. COMPLETE AS SEQUÊNCIAS COM OS NÚMEROS FALTOSOS.

1		3			6	7			10
---	--	---	--	--	---	---	--	--	----

	12		14	15			18		
--	----	--	----	----	--	--	----	--	--

21		23			26			29	
----	--	----	--	--	----	--	--	----	--

3. QUEM VEM ANTES E DEPOIS:

_____ 3 _____

_____ 7 _____

_____ 8 _____

_____ 5 _____

_____ 9 _____

_____ 4 _____

NOME: _____

DATA: 13/09/2021

· COMPLETE AS PALAVRAS COM AS VOGAIS QUE FALTAM:



S ____ C ____



C ____ R ____ P ____ R ____



B ____ T ____












C ____ C ____

NOME: _____

DATA: 14/09/2021

PINTE A QUANTIDADE DE QUADRADINHOS CORRESPONDENTE AO NÚMERO DE CADA IARA:

 9 <table border="1" data-bbox="212 712 539 864"><tr><td></td><td></td><td></td><td></td></tr><tr><td></td><td></td><td></td><td></td></tr></table>									 2 <table border="1" data-bbox="627 712 954 864"><tr><td></td><td></td><td></td><td></td></tr><tr><td></td><td></td><td></td><td></td></tr></table>									 6 <table border="1" data-bbox="1034 712 1361 864"><tr><td></td><td></td><td></td><td></td></tr><tr><td></td><td></td><td></td><td></td></tr></table>								
 1 <table border="1" data-bbox="212 1265 539 1417"><tr><td></td><td></td><td></td><td></td></tr><tr><td></td><td></td><td></td><td></td></tr></table>									 8 <table border="1" data-bbox="627 1265 954 1417"><tr><td></td><td></td><td></td><td></td></tr><tr><td></td><td></td><td></td><td></td></tr></table>									 3 <table border="1" data-bbox="1034 1265 1361 1417"><tr><td></td><td></td><td></td><td></td></tr><tr><td></td><td></td><td></td><td></td></tr></table>								
 5 <table border="1" data-bbox="212 1818 539 1971"><tr><td></td><td></td><td></td><td></td></tr><tr><td></td><td></td><td></td><td></td></tr></table>									 4 <table border="1" data-bbox="627 1818 954 1971"><tr><td></td><td></td><td></td><td></td></tr><tr><td></td><td></td><td></td><td></td></tr></table>									 7 <table border="1" data-bbox="1034 1818 1361 1971"><tr><td></td><td></td><td></td><td></td></tr><tr><td></td><td></td><td></td><td></td></tr></table>								

HOJE NOSSA CIDADE ESTÁ EM FESTA!

15 DE SETEMBRO ANIVERSÁRIO DE PONTA GROSSA

MÔNICA E ROSINHA TIRARAM FOTOS DE PONTA GROSSA.
VAMOS DESCOBRIR O NOME DOS LUGARES, TROCANDO OS
NÚMEROS POR LETRAS.

1	2	3	4	5	6	7	8	9	10
A	D	E	C	V	H	I	L	R	T




5	7	8	1	*	5	3	8	6	1



4	1	10	3	2	9	1	8



JUNTE O SA DE SAPO + A PALAVRA PATO E DESCUBRA O QUE FORMOU.



+

=

CADA SÍLABA EM UM QUADRINHO.

SAPO

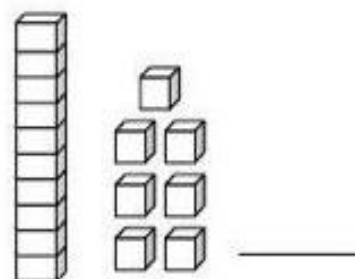
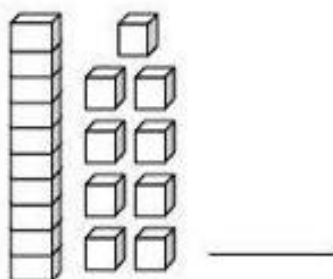
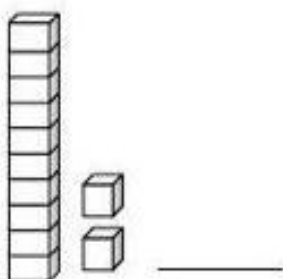
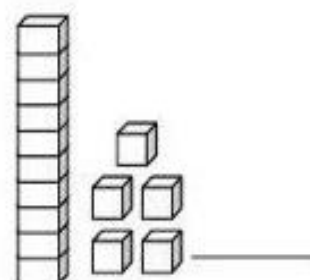
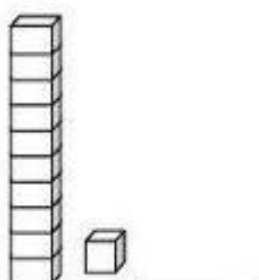
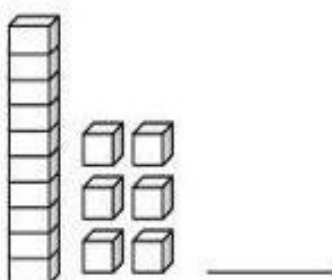
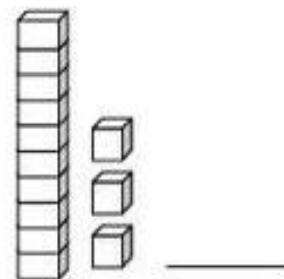
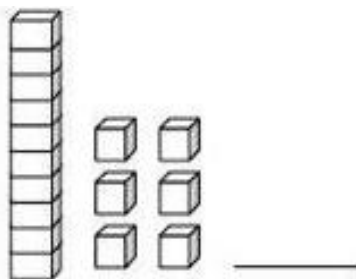
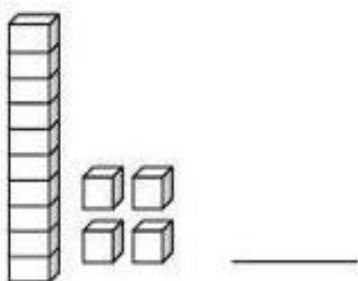
PATO

SAPATO

NOME: _____

DATA: 17/09/2021

ESCREVA O NÚMERO CORRESPONDENTE AO MATERIAL DOURADO:



CONTINUE SEQUÊNCIA NUMÉRICA:

1									

NOME: _____

DATA: 20/09/2021

COMPLETE AS PALAVRAS COM AS SÍLABAS ABAIXO:

VA

MA

RA

FO

CO

SO

LI

RO



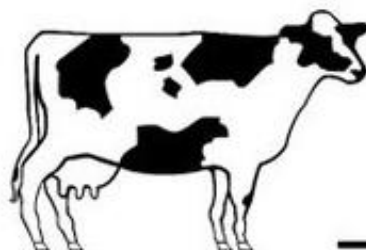
___TO




___ÇÃ



___CA




___CA



___FÁ



___PO



___BÔ



___XO



21 DE SETEMBRO – DIA DA ÁRVORE

CHICO BENTO GOSTA MUITO DE COMER GOIABA, AINDA MAIS QUANDO PEGA FRESQUINHA DO PÉ. ESCREVA QUAL É O NOME DO PÉ DE GOIABA.



CONTE QUANTAS GOIABAS HÁ NA ÁRVORE.

ENUMERE A SEQUÊNCIA DA HISTÓRIA DE ACORDO COM OS ACONTECIMENTOS



NOME: _____

DATA: 22/09/2021

22 DE SETEMBRO - INÍCIO DA PRIMAVERA

A PRIMAVERA CHEGOU!

DEIXE A CENA ABAIXO BEM COLORIDA.



2- OBSERVE A PALAVRA ABAIXO E RESPONDA COM ATENÇÃO.

PRIMAVERA

LETRA
INICIAL

LETRA
FINAL

TOTAL DE
VOGAIS

TOTAL DE
CONSOATES

TOTAL DE
LETRAS

NOME: _____

DATA: 23/09/2021

LIGUE CADA DESENHO À PALAVRA CORRESPONDENTE:



LATA



ÁRVORE



DENTE



BIGODE

PEIXE



ÍNDIO



ESCADA



CAMA



ACRESCENTANDO UMA UNIDADE A SEQUÊNCIA FICA ASSIM:

21									
$20+1$	$20+2$	$20+3$	$20+4$	$20+5$	$20+6$	$20+7$	$20+8$	$20+9$	
VINTE E UM	VINTE E DOIS	VINTE E							

EDUCAÇÃO E TRANSFORMAÇÃO. Atividades de sílabas. Disponível em: <https://www.educacaoetransformacao.com.br/atividades-de-silabas/> Acesso em: 26 ago. 2021.

BLOG MEU CANTINHO PERFEITO. Números até 30. Disponível em: <https://cantinhopreferidodamah.blogspot.com/2011/06/numeros-ate-30.html>. Acesso em 26 ago. 2021.

APRENDENDO A CONTAR!

1 – OBSERVE O QUADRO ABAIXO COM ATENÇÃO:

1	2	3	4	5	6	7	8	9	10
11	12	13	14	15	16	17	18	19	20
21	22	23	24	25	26	27	28	29	30

• RESPONDA:

2 – QUAL É O MAIOR NÚMERO QUE VOCÊ VÊ NO QUADRO?

3 – PINTE DE AZUL TODOS OS NÚMEROS QUE COMEÇAM COM 2 E ESCREVA-OS.

4 – PINTE DE VERDE O NÚMERO QUE ESTÁ ENTRE OS NÚMEROS 17 E 19 E ESCREVA-O.

5 – AGORA, COMPLETE O QUADRO COM OS NÚMEROS QUE FALTAM.


1	2	3		5	6	7			10
11		13	14		16	17		19	20
21		23		25			28		

ANIMAIS DOMÉSTICOS E SILVESTRES!



ANIMAIS DOMÉSTICOS

- SEU AMBIENTE NATURAL TAMBÉM É UMA ÁREA HABITADA POR SERES HUMANOS.
- PRECISAM DO CUIDADO DO SER HUMANO PARA SOBREVIVER.
- EXEMPLOS: CACHORRO, GATO, CAVALO, VACA, PORCO...



LIVRES
OU EM
CATIVEIRO

- VIVEM EM AMBIENTE NATURAL (FLORESTA, OCEANO, DESERTO).
- SE NÃO NASCEM EM CATIVEIRO, NÃO PRECISAM DO SER HUMANO PARA SOBREVIVER.
- EXEMPLOS: ARARA, MACACO, COBRA, ONÇA, TAMANDUÁ...




ANIMAIS SILVESTRES

NOME: _____









DATA: 28/09/2021

COM MUITO CAPRICO VAMOS COLORIR OS ANIMAIS SILVESTRES:



VAMOS COMPLETAR AS PALAVRAS:

ZA - ZE - ZI - ZO - ZU




EDUCAÇÃO FÍSICA

PROFESSORA: FABIANA DA SILVA SCHMITZ

ALUNO (A): _____ 1º ANO _____

OBSERVE A FIGURA E RESPONDA:



- QUANTAS CRIANÇAS ESTÃO NA FILA? 5 6 7
- QUANTOS MENINOS? 2 3 4
- QUANTAS MENINAS? 2 5 4
- QUANTAS CRIANÇAS ESTÃO DE BONÉ? 3 2 1
- QUANTAS CRIANÇAS SEGURAM BRINQUEDO? 1 2 3

EDUCAÇÃO FÍSICA

PROFESSORA: FABIANA DA SILVA SCHMITZ

ALUNO (A): _____ 1º ANO _____

PINTE OS BRINQUEDOS QUE ESTÃO NA ESTANTE.

FAÇA UM X NA BOLA MENOR.

LIGUE OS PONTOS E AJUDE ANINHA A COLOCAR AS COISAS NO LUGAR.

