

ALUNO: _____

PROFESSORA: _____ GRUPO: 1º ANO _____

ATIVIDADE DO DIA 01/10/2021

OUTUBRO - 2021



12/10 - DIA DAS CRIANÇAS

D	S	T	Q	Q	S	S
					1	2
3	4	5	6	7	8	9
10	11	12	13	14	15	16
17	18	19	20	21	22	23
24	25	26	27	28	29	30
31						

PROJETO SER CRIANÇA!

QUE O MÊS DAS CRIANÇAS QUE HOJE SE INICIA NOS TRAGA INOCÊNCIA AOS NOSSOS OLHOS, VERDADE EM NOSSOS ATOS, SENSIBILIDADE EM NOSSOS PENSAMENTOS E ACIMA DE TUDO AMOR EM NOSSOS CORAÇÕES. QUE SEJA UM MÊS DE VITÓRIAS, CONQUISTAS, UNIÃO E PROSPERIDADE. E ACIMA DE TUDO QUE SEJA UM MÊS DE PAZ. QUE POSSAMOS ENXERGAR A VIDA MAIS COLORIDA, MAIS LEVE E DIVERTIDA. OUTUBRO SEJA BEM-VINDO E NOS FAÇA FELIZ.

QUE O NOSSO MÊS SEJA ABENÇOADO!



ALUNO: _____

DATA: 04/10/2021

🌟 OBA! DIA DE HISTÓRIA!

HOJE VAMOS ASSISTIR COM MUITA ATENÇÃO A HISTÓRIA DE JOÃO E MARIA!

ACESSE ESTE LINK:

https://www.youtube.com/watch?v=XYbV4HeWVH8&ab_channel=Hist%C3%B3riadeNinar%28BR.BedtimeStory.TV%29

AGORA NO ESPAÇO ABAIXO VOCÊ IRÁ ILUSTRAR A PARTE DA HISTÓRIA QUE MAIS GOSTOU. (NÃO ESQUEÇA DE REGISTRAR O NOME DA HISTÓRIA, A DATA, PINTAR A ILUSTRAÇÃO E A MARGEM)


DATA: ____ / ____ / ____

VAMOS INTERPRETAR A HISTÓRIA?

PINTE O CÍRCULO EM QUE A PALAVRA COMPLETA A FRASE E ESCREVA-A NO ESPAÇO.

A QUERIA ABANDONAR AS CRIANÇAS NA FLORESTA.

- MAMÃE
- MADRASTA
- PAPAI



JOÃO E MARIA JOGARAM MIGALHAS DE PARA VOLTAR PARA CASA.

- PÃO
- BISCOITO
- BOLO



ALUNO: _____

DATA: 06/10/2021

CONTINUE INTERPRETANDO A HISTÓRIA:

SE NECESSÁRIO ASSISTA A HISTÓRIA DO DIA 04/10 NOVAMENTE.

A CASA DA BRUXA ERA DE _____ .




TIJOLOS

PEDRAS

DOCES

PARA ENGANAR A BRUXA, JOÃO MOSTRAVA, NO LUGAR DE SEU DEDO _____ .



UM OSSO DE GALINHA

UM PEDAÇO DE BALA

UM PALITO DE PIRULITO

MARIA EMPURROU A BRUXA PARA DENTRO _____ .

CALDEIRÃO

FORNO

PORÃO



ALUNO: _____

DATA: 07/10/2021

NOSSA ATIVIDADE SERÁ BEM LEGAL! VAMOS CONFECCIONAR DEDOCHES DOS PERSONAGENS DA HISTÓRIA DE JOÃO E MARIA.



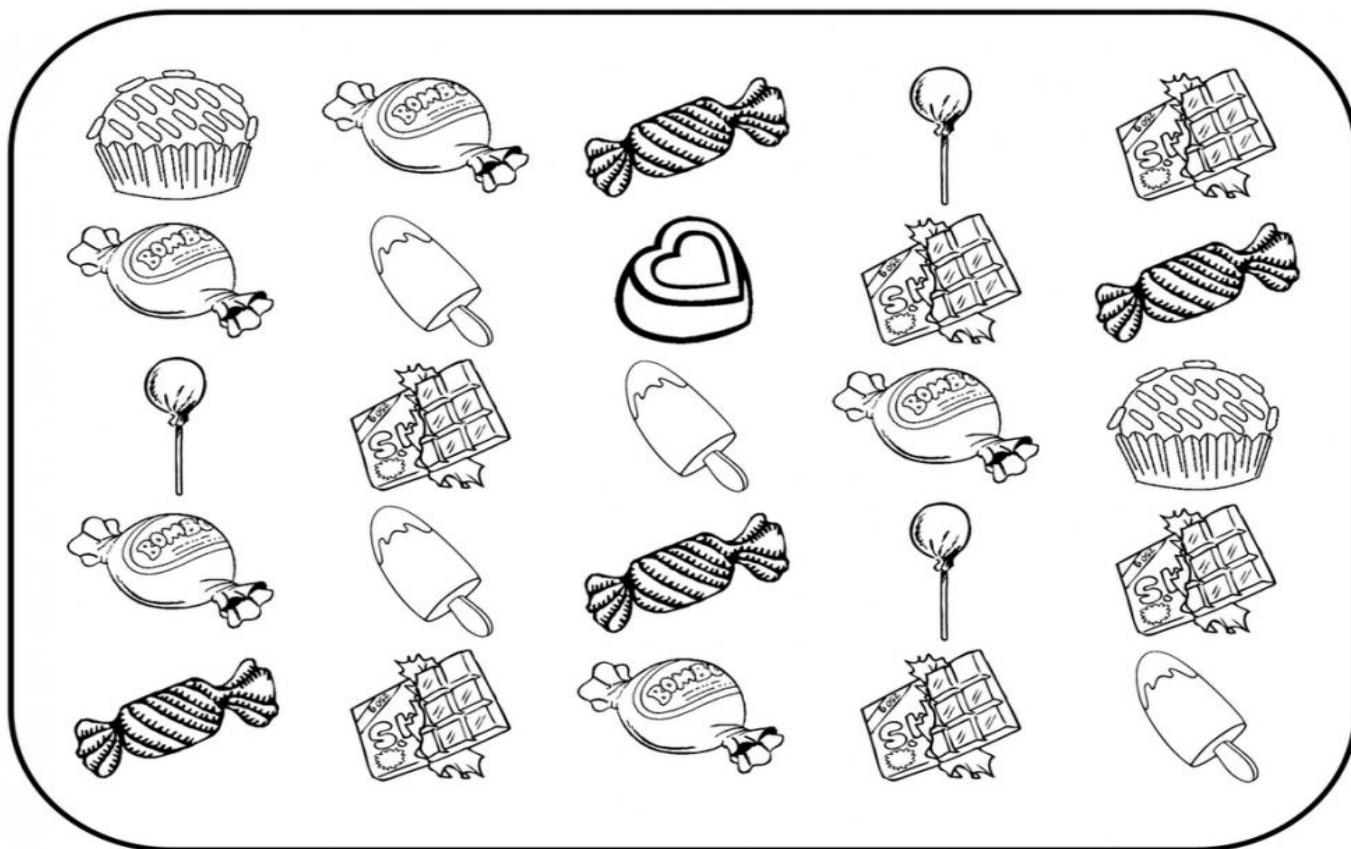
MODO DE FAZER:




- PINTE COM MUITO CAPRICO OS PERSONAGENS;
- PEÇA PARA UM ADULTO TE AJUDAR A RECORTAR;
- COLOQUE OS DEDINHOS NOS FUROS DOS PERSONAGENS PARA MOVIMENTÁ-LOS;
- AGORA É SÓ RECONTAR A HISTÓRIA;






DESAFIOS MATEMÁTICOS!

VAMOS CONTAR OS DOCES E REGISTRAR AS QUANTIDADES NOS QUADRADINHOS CORRESPONDENTES!





PARABÉNS!

ONTEM, DIA 12 DE OUTUBRO, COMEMORAMOS O DIA DAS CRIANÇAS!



PARA COMEMORAR O SEU DIA, CONVIDE UM DOS SEUS RESPONSÁVEIS E JUNTOS FAÇAM A RECEITA DE MASSINHA. DIVIRTAM-SE!

RECEITA


- UMA XÍCARA DE FARINHA DE TRIGO;
- MEIA XÍCARA DE SAL;
- MEIA XÍCARA DE ÁGUA;
- DUAS COLHERES DE ÓLEO;
- CORANTE COMESTÍVEL DA COR DE SUA PREFERÊNCIA; (SE NÃO TIVER CORANTE PODE USAR GELATINA OU SUCO)

Site da receita da massinha.

<https://comofazerisso.com.br/como-fazer/como-fazer-massinha-play-doh-em-casa-massinha-de-modelar-caseira-2017-p#>

BRINCANDO NO LABIRINTO!

VAMOS AJUDÁ-LOS A CHEGAR ATÉ A CASA?




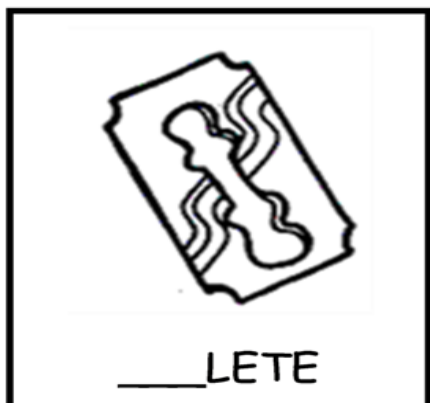


ALUNO: _____

DATA: 15/10/2021

HOJE COMEMORAMOS O DIA DO PROFESSOR!



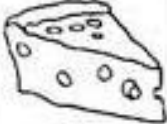




MOSTRE SUA CRIATIVIDADE E FAÇA UM CARINHO PARA SUA PROFESSORA NO ESPAÇO ABAIXO. ELA FICARÁ MUITO FELIZ!

SUGESTÕES: DESENHO, PINTURA, RECORTES E COLAGEM;




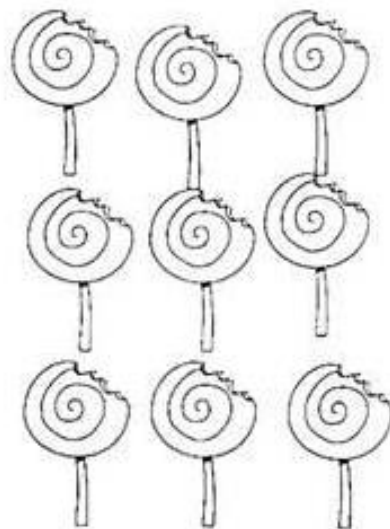


VAMOS COMPLETAR AS PALAVRAS COM :**GE - GI**

DESAFIOS MATEMÁTICOS!

JOÃO ESTAVA COM TANTA FOME QUE QUANDO ENTROU NA CASA DA BRUXA, ELE COMEU:

						
3	7	4	8	1	5	6

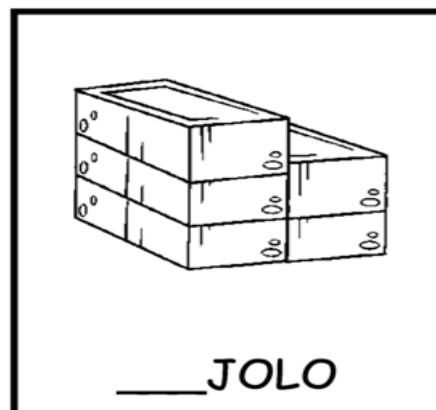


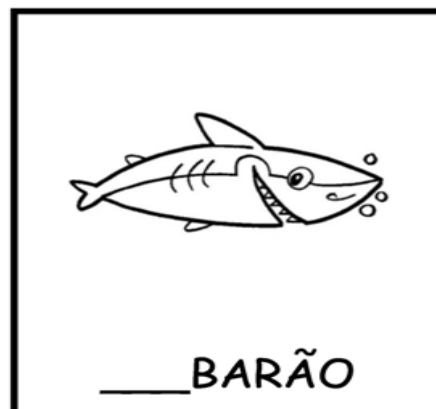


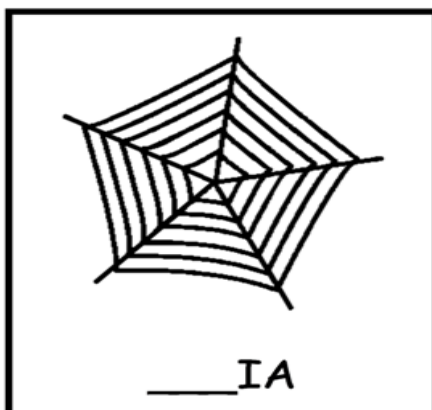


AGORA, OBSERVE OS DESENHOS ABAIXO E, DE ACORDO COM OS NÚMEROS DA TABELA ACIMA, FORME CONJUNTOS COM AS QUANTIDADES PEDIDAS, COMO NO EXEMPLO:



FAMÍLIA SILÁBICA DO T!

VAMOS COMPLETAR AS PALAVRAS






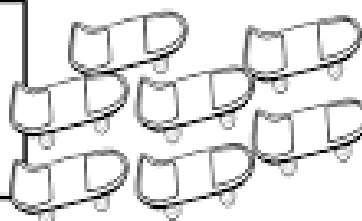
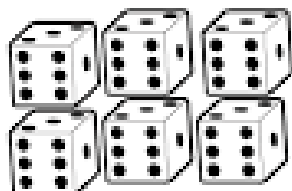
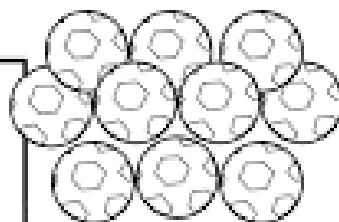
TA - TE - TI - TO - TU



DESAFIOS DE MATEMÁTICA!

COMPLETE OS ESPAÇOS DA AMARELINHA COM OS NÚMEROS CORRESPONDENTES À QUANTIDADE DE FIGURAS:

CÉU



ALUNO: _____

DATA: 22/10/2021

BRINCANDO DE AMARELINHA!

APROVEITE O FINAL DE SEMANA!

ASSISTA O VÍDEO ABAIXO, CONVIDE SUA FAMÍLIA PARA MONTAR UMA AMARELINHA E BRINCAR COM VOCÊ.

<https://www.youtube.com/watch?v=XyKyYImVRT0&feature=youtu.be>

AGORA, NO ESPAÇO ABAIXO REPRESENTA COMO FOI A BRINCADEIRA:

AMARELINHA

DATA: ___ / ___ / ____

COM A AJUDA DE UM ADULTO ASSISTA O VÍDEO DA POESIA: **JOGO DE BOLA!**

<https://www.youtube.com/watch?v=wBBMIS8zmtY&feature=youtu.be>

JOGO DE BOLA

A BELA BOLA ROLA,
A BELA BOLA DO RAUL.

BOLA AMARELA,
A DE ARABELA.

A DO RAUL,
AZUL.

ROLA A AMARELA
E PULA A AZUL.

A BOLA É MOLE,
É MOLE E ROLA.

A BOLA É BELA,
É BELA E PULA.

É BELA, ROLA E PULA,
É MOLE, AMARELA, AZUL.

A DE RAUL É DE ARABELA,
E A DE ARABELA É DE RAUL.

(Cecília Merelles)

- CIRCULE NA POESIA A PALAVRA BOLA:

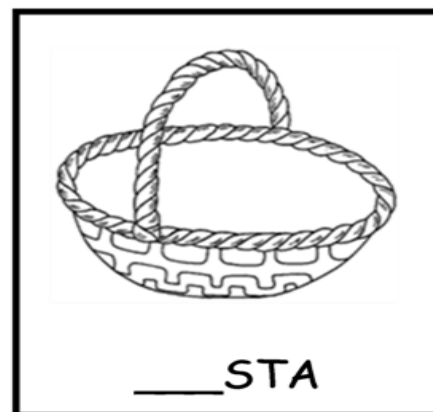

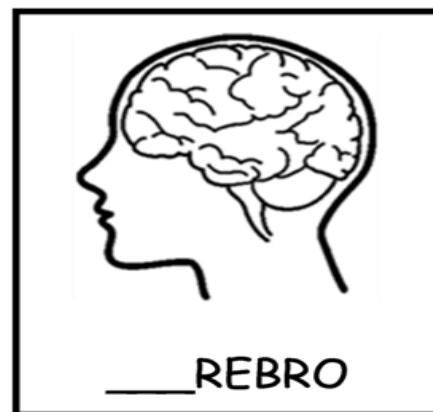

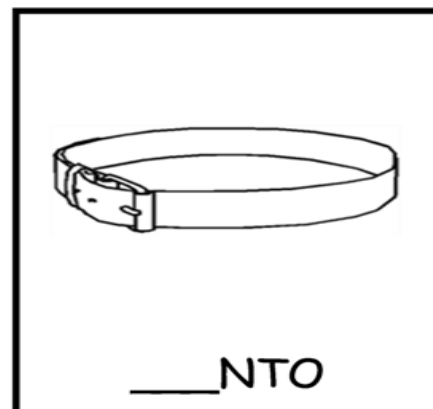


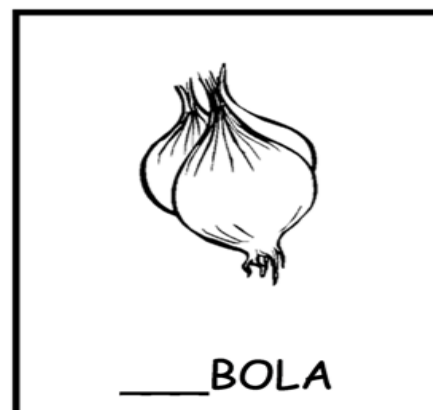
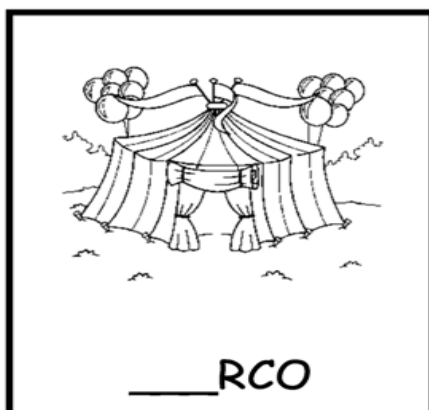

- QUANTAS VEZES APARECEU A PALAVRA BOLA?

PINTE OS BRINQUEDOS COM AS CORES INDICADAS NA LEGENDA:

AMARELO	1
VERDE	2
LARANJA	3
VERMELHO	4
LILÁS	5
AZUL	6
MARRON	7




VAMOS COMPLETAR AS PALAVRAS:

CE - CI






VOCÊ CONHECE ESTAS BRINCADEIRAS TRADICIONAIS?

PINTE QUAS AS BRINCADEIRAS QUE VOCÊ CONHECE OU JÁ BRINCOU!



DESAFIOS MATEMÁTICOS!

ESCREVA O RESULTADO DAS SOMAS:



ALUNO: _____

DATA: 29/10/2021

QUAL A SUA BRINCADEIRA FAVORITA?

DESENHE-A NO ESPAÇO ABAIXO:


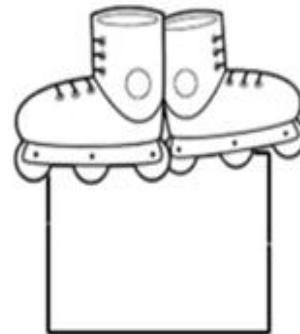


ALUNO: _____

DATA: 29/10/2021

PARA FECHAR O PROJETO SER CRIANÇA, DESAFIAMOS VOCÊ A ESCREVER A PRIMEIRA LETRA DE CADA FIGURA E CIRCULAR O SEU BRINQUEDO PREFERIDO:

DEPOIS FAÇA A PINTURA COM MUITO CAPRICHOS.

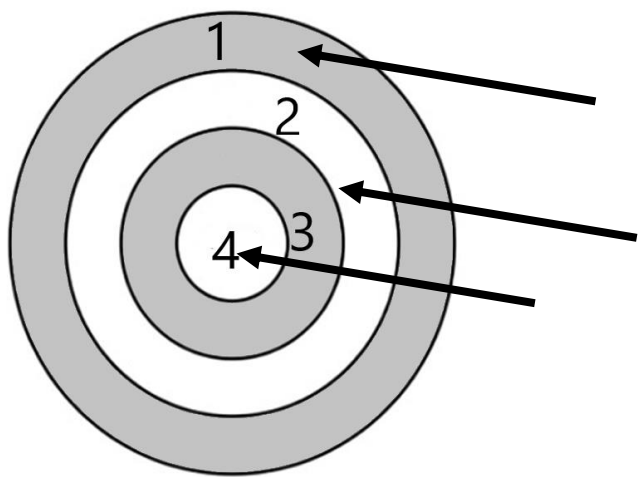


EDUCAÇÃO FÍSICA

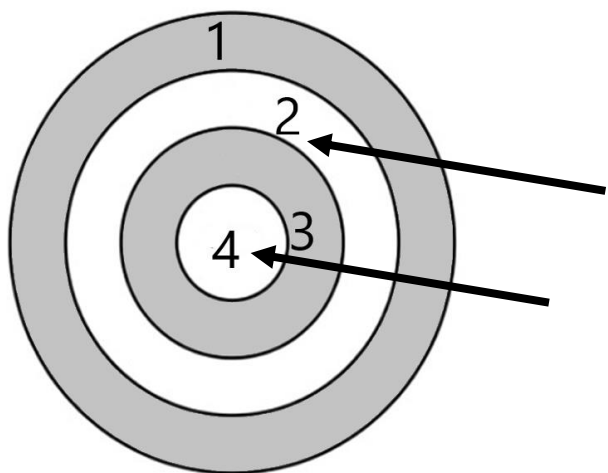
PROFESSORA: FABIANA DA SILVA SCHMITZ

ALUNO (A): _____ 1º ANO _____

OBSERVE O ARCO E FLECHA E RESPONDA QUANTOS PONTOS FORAM MARCADOS.



QUANTOS PONTOS FORAM MARCADOS ? _____



QUANTOS PONTOS FORAM MARCADOS? _____

EDUCAÇÃO FÍSICA

PROFESSORA: FABIANA DA SILVA SCHMITZ

ALUNO (A): _____ 1º ANO _____

MAGALI E MÔNICA ESTÃO JOGANDO BOLICHE. CADA PINO VALE UM PONTO. OBSERVE A FIGURA E RESPONDA:

QUANTOS PONTOS MAGALI MARCOU? _____

QUANTOS PONTOS MÔNICA MARCOU? _____

PINTE OS PINOS QUE A MÔNICA NÃO DERRUBOU.

QUANTOS PINOS A MÔNICA NÃO DERRUBOU? _____

