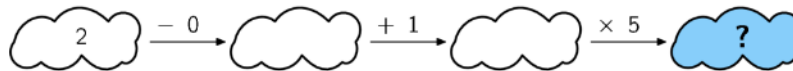


CHAMAT Júnior - Ciclo 1

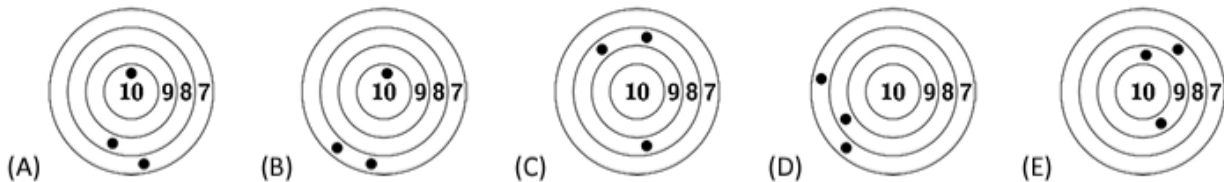
Encontro Presencial: 13/04 às 10h - Central de Salas

Primeira Semana:

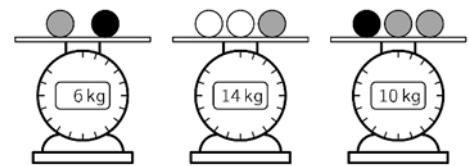
Desafio 1.1 Qual número deve aparecer no lugar do sinal de interrogação?



Desafio 1.2 Numa olimpíada, 5 meninos competem no tiro ao alvo. Ricardo conseguiu o maior número de pontos. Qual era o alvo de Ricardo?

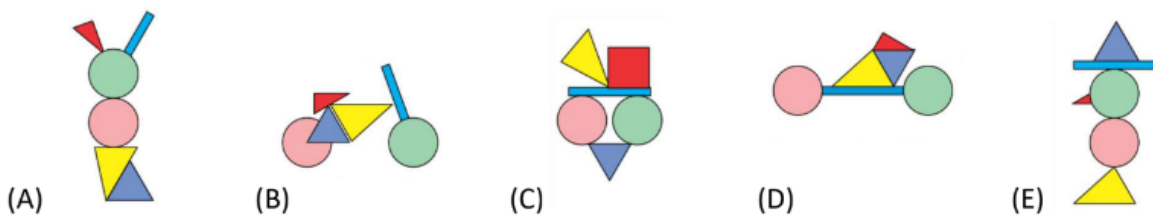
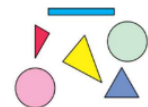


Desafio 1.3 (Extra) Natália tem algumas bolas com 3 cores diferentes. As bolas de mesma cor têm pesos iguais. Quantos quilogramas tem cada bola branca?

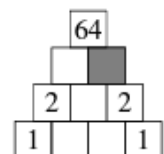


Segunda Semana:


Desafio 1.4 Qual das figuras a seguir você **NÃO** pode fazer usando todas as peças ao lado?



Desafio 1.5 Leonardo quer preencher a figura ao lado com alguns números. Se o número que ele escreve em um quadradinho é igual ao produto dos dois números que estão imediatamente abaixo, que número deve escrever no quadradinho pintado de cinza?



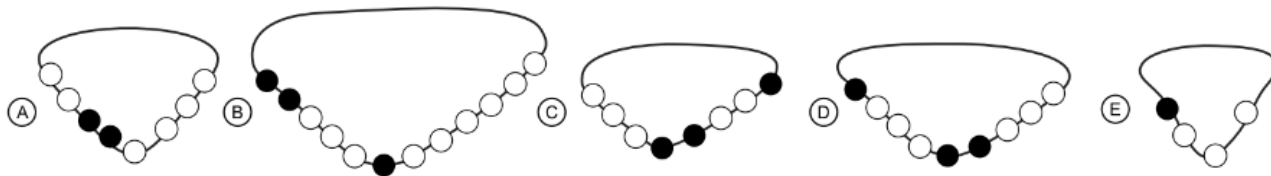
Desafio 1.6 (Extra) Um padrão regular retangular de uma parede foi criado com dois tipos de azulejos: cinzentos e riscados. Alguns azulejos caíram da parede, como mostra a figura. Quantos azulejos cinzentos caíram?



Terceira Semana:

Desafio 1.7 Suzana comprou 16 balas. Carol comeu metade delas. Joaquim comeu duas e a Diana comeu as restantes. Quantas balas Diana comeu?

Desafio 1.8 Em qual dos colares a seguir um terço das miçangas é da cor preta?



Desafio 1.9 (Extra) Irene tem três tipos de ervas para fazer seu chá: erva-doce, hortelã e camomila. Às vezes ela usa somente um tipo de erva, às vezes ela mistura dois tipos de ervas. Quantos tipos diferentes de chá ela consegue preparar?

Terceira Semana:

Desafio Avaliativo. Mariana escreveu em seu caderno todos os números de 2000 a 2024, incluindo esses dois números. Quantas vezes Mariana escreveu o algarismo zero?
